

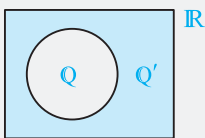
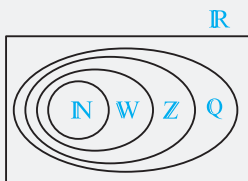
یادآوری مجموعه‌های مهم و روابط بین مجموعه‌ها

در سال‌های قبل با چند مجموعه همیشه در صحنه و مهم آشنا شدیم که باید حتماً آن‌ها و نمادهایشان را به‌خاطر داشته باشید:

- ۱ مجموعه اعداد طبیعی: $\mathbb{N} = \{1, 2, 3, \dots\}$
- ۲ مجموعه اعداد حسابی: $\mathbb{W} = \{0, 1, 2, 3, \dots\}$
- ۳ مجموعه اعداد صحیح: $\mathbb{Z} = \{\dots, -2, -1, 0, 1, 2, \dots\}$
- ۴ مجموعه اعداد گویا: $\mathbb{Q} = \left\{ \frac{m}{n} \mid m, n \in \mathbb{Z}, n \neq 0 \right\}$
- ۵ مجموعه اعداد گنگ (\mathbb{Q}'): مجموعه اعدادی هستند که نمی‌توان آن‌ها را به‌صورت نسبت دو عدد صحیح نوشت مثل $\sqrt{2}$ و π .
- ۶ مجموعه اعداد حقیقی: $\mathbb{R} = \mathbb{Q} \cup \mathbb{Q}'$

نکته روابط زیر را که بسیار مهم است حتماً به‌خاطر بسپارید:

$$\mathbb{N} \subseteq \mathbb{W} \subseteq \mathbb{Z} \subseteq \mathbb{Q} \subseteq \mathbb{R}, \quad \mathbb{Q} \cup \mathbb{Q}' = \mathbb{R}$$

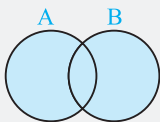


سؤال دانش‌پژوه (بنیامین روشن): آقا پس \mathbb{Q}' چی شد؟

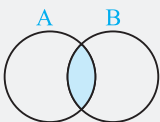
کله پاسخ: در روز بر \mathbb{Q}' مطمئن باش گم نشده! در واقع اون قسمت بین \mathbb{Q} و \mathbb{R} هست. به شکل مقابل نگاه کن تا بفهمی \mathbb{Q}' کجاست.

اجتماع، اشتراک و تفاضل

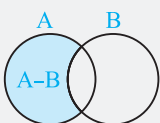
اجتماع دو مجموعه A و B: مجموعه‌ای است که اعضایش متعلق به A یا B یا هر دو مجموعه A و B هستند و آن را به‌صورت $A \cup B$ نمایش می‌دهیم. نمودار ون آن به‌صورت مقابل است:



اشتراک دو مجموعه A و B: مجموعه‌ای است که هر عضو آن هم به A و هم به B تعلق داشته و آن را به‌صورت $A \cap B$ نشان می‌دهند. نمودار ون آن به‌صورت مقابل است:



تفاضل دو مجموعه: تفاضل مجموعه B از A را به‌صورت $A - B$ نوشته و مجموعه‌ای است که عضوهای آن به A تعلق داشته باشد ولی به B تعلق نداشته باشد. نمودار ون آن به‌صورت مقابل است:



مثال اگر $A = \{a, b, c\}$ و $B = \{c, d\}$ ، آنگاه مجموعه‌های $A \cup B$ ، $A \cap B$ ، $A - B$ و $B - A$ را بیابید.

کله پاسخ:

$$A \cup B = \{a, b, c, d\}, \quad A \cap B = \{c\}, \quad A - B = \{a, b\}, \quad B - A = \{d\}$$

یادآوری قوانین مهم:

۱ $(A \cap B) \subseteq A \subseteq (A \cup B)$, $(A \cap B) \subseteq B \subseteq (A \cup B)$

۲ $A \subseteq B \Leftrightarrow \begin{cases} A \cup B = B \\ A \cap B = A \end{cases} \xrightarrow{\text{نتیجه}} A \cup \emptyset = A, \quad A \cap \emptyset = \emptyset$ (تهی اشتراک با هر چیزی تهی و اجتماعش با هر چیزی همون چیزه همیشه.)

۳ $A \cup (B \cap C) = (A \cup B) \cap (A \cup C)$, $A \cap (B \cup C) = (A \cap B) \cup (A \cap C)$

۴ $A \cap (A \cup B) \stackrel{A \subseteq A \cup B}{=} A$, $A \cup (A \cap B) \stackrel{A \cap B \subseteq A}{=} A$ (قوانین جذب)

۱- کدام نتیجه زیر نادرست است؟

$W \cap Z \subseteq W$ (۴) $W \cup Z \subseteq W$ (۳) $N \cap W \subseteq W$ (۲) $N \cup W \subseteq W$ (۱)

۲- اگر اعداد حسابی را با W ، اعداد طبیعی را با N ، اعداد طبیعی فرد را با O و اعداد طبیعی زوج را با E نشان دهیم، کدام گزینه برابر \emptyset است؟

$W - N$ (۴) $E - N$ (۳) $O - E$ (۲) $N - O$ (۱)

۳- به ازای کدام مجموعه A ، مجموعه $B = \{x \mid x^2 < 1, x \in A\}$ هیچ عضوی ندارد؟

$Z - W$ (۳) $Q - Z$ (۲) $W - N$ (۱)

۴- اگر A مجموعه اعداد طبیعی فرد دو رقمی کوچکتر از 20 و B مجموعه مضربهای طبیعی و دو رقمی عدد 3 که کوچکتر از 20 هستند باشند، $A \cup B$ چند عضو از A بیشتر دارد؟

3 (۱) 2 (۲) 1 (۳) 4 (۴)

۵- اگر $A = \{x \in N \mid \frac{12}{x} \in N\}$ و $B = \{x \in N \mid \frac{18}{x} \in N\}$ چند عضو دارد؟

1 (۱) 2 (۲) 3 (۳) 4 (۴)

۶- اگر $A = \{2, 3, 6, 7, 8\}$ و $B = \{2, 4, 5, 6\}$ باشند، مجموعه $(A \cup B) - [A - (A \cap B)]$ چند عضو دارد؟

2 (۱) 3 (۲) 4 (۳) 5 (۴)

۷- کدام مجموعه، قسمت سایه خورده را نشان می دهد؟

$A \cap (B \cup C)$ (۱) $A \cup (B \cap C)$ (۲)

$C \cup (A \cap B)$ (۳) $C \cap (A \cup B)$ (۴)

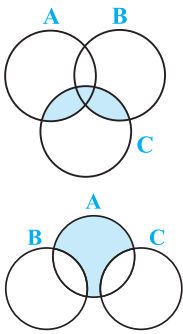
۸- کدام یک از مجموعه های زیر، قسمت سایه دار را نشان می دهد؟

$A - (B \cap C)$ (۱) $(A - C) \cap (A - B)$ (۲)

$A \cap (B \cup C)$ (۳) $(A \cup B) - (A \cup C)$ (۴)

۹- اگر $A \cup B = \{k^2 \mid k \in N, k \leq 8\}$ و $A \cup C = \{k^3 \mid k \in N\}$ ، آن گاه $A \cup (B \cap C)$ چند عضو دارد؟

1 (۱) 2 (۲) 4 (۳) 4 بی شمار (۴)



درسنامه ۲

بازه (فاصله)

اگر a و b دو عدد حقیقی و $a < b$ باشد، حالات زیر را داریم:

۱ تمام اعداد حقیقی بین این دو عدد را به صورت زیر نشان می دهیم و آن را بازه باز (a, b) می خوانیم. $(a, b) = \{x \mid x \in \mathbb{R}, a < x < b\}$

۲ تمام اعداد حقیقی بین این دو عدد به همراه خود این دو عدد را به صورت زیر نشان می دهیم و آن را بازه بسته $[a, b]$ می نامیم. $[a, b] = \{x \mid x \in \mathbb{R}, a \leq x \leq b\}$

۳ تمام اعداد حقیقی بین این دو عدد به همراه تنها یکی از این دو عدد را به صورت های زیر نشان می دهیم و به آن ها بازه نیم باز می گوئیم. $[a, b) = \{x \mid x \in \mathbb{R}, a \leq x < b\}$ ، $(a, b] = \{x \mid x \in \mathbb{R}, a < x \leq b\}$

به طور خلاصه، برخی بازه ها را با فرض $a < b$ ، به صورت های زیر می توان نوشت:

نمایش بازه ای	نمایش مجموعه ای	نمایش هندسی
(a, b)	$\{x \mid x \in \mathbb{R}, a < x < b\}$	
$[a, b]$	$\{x \mid x \in \mathbb{R}, a \leq x \leq b\}$	
$(a, b]$	$\{x \mid x \in \mathbb{R}, a < x \leq b\}$	
$[a, b)$	$\{x \mid x \in \mathbb{R}, a \leq x < b\}$	
$(-\infty, a]$	$\{x \mid x \in \mathbb{R}, x \leq a\}$	
$(a, +\infty)$	$\{x \mid x \in \mathbb{R}, x > a\}$	
$(-\infty, +\infty)$	$\{x \mid x \in \mathbb{R}\}$	

۲۲- اگر $\{x\} = \{y - 5, 7\} \cap \{-4, 3x - 4\}$ باشد، عدد $x + 2y$ کدام است؟

- ۹ (۱) ۷/۵ (۲) ۶ (۳) ۵ (۴)

۲۳- اگر $[-2, 9] = [a, 7] \cup [-1, b]$ باشد، آن‌گاه $b - a$ کدام است؟

- ۹ (۱) ۱۰ (۲) ۱۱ (۳) ۱۲ (۴)

۲۴- اگر $(7, 16) = (5a, b) \cup (7, 3a + 1) \cup (a - 2b, 9)$ شود، مقدار $a - b$ کدام است؟ ($b \in \mathbb{Z}$)

- ۵ (۱) ۶ (۲) -۶ (۳) -۵ (۴)

۲۵- اگر $(5a, b) = (5, 6) \cup (2a - 3, -2a + 3)$ شود، مقدار $a + b$ کدام است؟

- ۶ (۱) ۵ (۲) ۳ (۳) -۳ (۴)

۲۶- اگر $\mathbb{R} = (-\infty, \frac{3m+5}{v}] \cup (\frac{m-1}{p}, +\infty)$ باشد، محدوده m کدام است؟

- $m = 18$ (۱) $m \geq 17$ (۲) $m > 17$ (۳) $m \leq 17$ (۴)

۲۷- اگر اشتراک بازه‌های $(1, 6)$ و $(2, 2x + 1)$ به صورت $(2, 4x - 3)$ باشد، مقدار $x^2 + 5x$ کدام است؟

- ۱۰ (۱) ۱۴ (۲) ۲ (۳) ۸ (۴)

۲۸- اگر $A = [5x + 1, -3x - 6]$ مجموعه‌ای ناتهی و $B = [3, 6]$ باشد، چند عدد صحیح در تساوی $A \cap B = \emptyset$ صدق می‌کند؟

- ۱ (۱) ۲ (۲) ۳ (۳) ۴ (۴) بیشتر

۲۹- اگر $A_m = \{x \mid x \in \mathbb{R}, 0 < x - 1 < 2^m\}$ باشد، $A_7 \cap A_3$ بیانگر کدام بازه است؟

- (۱, ۵) (۱) (۳, ۵) (۲) (۲, ۵) (۳) (۵, ۹) (۴)

۳۰- اگر $A_n = \{m \in \mathbb{Z} \mid m \geq -n, 2^m \leq n\}$ و $n \in \mathbb{N}$ آن‌گاه مجموعه $A_7 \cap A_3$ چند عضو دارد؟

- ۳ (۱) ۴ (۲) ۵ (۳) ۶ (۴)

۳۱- اگر $0 < a < -1$ باشد، آن‌گاه $[a^3, a^2] - [a^4, a^5]$ کدام است؟

- $[a, a^2] \cup [a^2, a^4]$ (۱) \emptyset (۲) $[a, a^3]$ (۳) $[a^2, a^4]$ (۴)

۳۲- اگر $A_n = (-\frac{2}{n}, \frac{n-2}{n})$ به صورت بازه باشد، مجموعه $A_3 - (A_3 \cup A_6)$ برابر کدام بازه است؟

- $(-\frac{1}{3}, \frac{2}{3})$ (۱) $[-\frac{1}{3}, \frac{2}{3})$ (۲) $(\frac{1}{3}, \frac{2}{3})$ (۳) $[\frac{1}{3}, \frac{2}{3})$ (۴)

۳۳- اگر $A_i = [-i, \frac{9-i}{4}]$ ، $i \in \{1, 2, 3, \dots, 9\}$ آن‌گاه مجموعه $(A_7 \cap A_5) - (A_1 \cap A_7)$ کدام است؟

- $(-2, -1) \cup (1, 2]$ (۱) $[-2, -1] \cup [1, 2]$ (۲) $[-1, 1]$ (۳) \emptyset (۴)

۳۴- اگر n عددی طبیعی و A_n بازه $(-1)^n n, 2n)$ باشد، چند عدد صحیح به مجموعه $A_1 \cup A_2 \cup A_3 \cup A_4$ تعلق دارد؟

- ۸ (۱) ۹ (۲) ۱۰ (۳) ۱۱ (۴)

ریاضی خارج ۸۸ با تغییر

ریاضی خارج ۸۶

ریاضی داخل ۹۲

ریاضی داخل ۸۴

درسنامه ۳

مجموعه‌های متناهی و نامتناهی

مجموعه‌ای را که تعداد اعضای آن برابر با یک عدد حسابی باشد، «مجموعه متناهی» می‌نامند و مجموعه‌ای را که متناهی نباشد، «مجموعه نامتناهی» می‌گویند.

مثال مجموعه اعداد طبیعی (\mathbb{N})، مجموعه اعداد صحیح (\mathbb{Z}) و تعداد اعداد گویا یا گنگ در یک بازه، مجموعه‌های نامتناهی و مجموعه مولکول‌های موجود در جهان هستی، مجموعه‌های متناهی است. هم‌چنین تهی نیز مجموعه‌ای است که صفر عضو دارد و لذا مجموعه‌های متناهی می‌باشد.

سؤال دانش‌پژوه (قلی اکبرزاده): آقا اجازه! آخه مولکول‌های جهان هستی که خیلی زیادن! چطوری می‌گن متناهی پس؟

کلی پاسخ: قلی جان، مگه به تو گفتن برو بشمر! درسته که خیلی زیادن، اما با داشتن امکانات لازم و صرف وقت بسیار، ممکنه که بشه تعداد اون‌ها رو به‌درست آورد. پس یادت باشه تعداد اعضای بعضی از مجموعه‌های متناهی ممکنه خیلی زیاده، ولی نباید به خاطر این، اونا رو مجموعه نامتناهی بگیریم!

نکته جدول زیر به شما نشان می‌دهد که اگر A و B متناهی یا نامتناهی باشد، اوضاع از چه قرار است. خوب دقت کنید و به دلایل متناهی یا نامتناهی بودن آن‌ها فکر کنید:

مجموعه‌ها	$A \cap B$	$A \cup B$	$A - B$	$B - A$
A و B هر دو متناهی	متناهی	متناهی	متناهی	متناهی
A متناهی و B نامتناهی	متناهی	نامتناهی	متناهی	نامتناهی
A و B هر دو نامتناهی	می‌تواند متناهی یا نامتناهی باشد.	نامتناهی	می‌تواند متناهی یا نامتناهی باشد.	می‌تواند متناهی یا نامتناهی باشد.

برگرفته از کتاب درسی

۳۵- کدام یک از مجموعه‌های زیر نامتناهی است؟

- (۱) مجموعه اعداد اول یک‌رقمی
 (۲) مجموعه دانش‌آموزان مدرسه شما
 (۳) مجموعه مولکول‌های موجود در یک مول مشخص از آب
 (۴) مجموعه تمام دایره‌های به مرکز مبدأ مختصات

برگرفته از کتاب درسی

۳۶- اگر مجموعه $A = \{x \in \mathbb{B} \mid 0 < x < 2\}$ نامتناهی باشد، مجموعه B کدام نمی‌تواند باشد؟

- (۱) \mathbb{Q} (۲) \mathbb{R} (۳) \mathbb{Q}' (۴) \mathbb{Z}

۳۷- کدام گزینه بیانگر مجموعه‌ای متناهی است؟

$$(1) \left(\frac{1}{2}, \frac{1}{3}\right] - \left\{\frac{1}{5}\right\}$$

- (۲) اعداد صحیح مضرب ۳ و کوچک‌تر از ۲۰۰۰
 (۳) اعداد کسری که مخرجشان ۱ و صورتشان عدد طبیعی بوده و کم‌تر از ۵۰۰ باشند.
 (۴) جنگل‌های زیبای جهان

۳۸- کدام مجموعه متناهی است؟

- (۱) مجموعه خطوط گذرنده از مبدأ مختصات
 (۲) مجموعه اعداد فرد صحیح و کوچک‌تر از 10^6
 (۳) مجموعه اعداد به صورت $\frac{1}{n}$ که $n \in \mathbb{N}$ و بزرگ‌تر از $\frac{1}{100}$ باشند.
 (۴) $\mathbb{Z} - \mathbb{W}$

برگرفته از کتاب درسی

۳۹- کدام مجموعه دارای کوچک‌ترین عضو می‌باشد؟

- (۱) $(1, 7)$ (۲) $\{x \in \mathbb{R}, x \geq 7\}$ (۳) $\{0, -2, -1, 0, 1, 2, 3\}$ (۴) گزینه‌های (۱) و (۲)

۴۰- فرض کنید A مجموعه اعداد طبیعی کم‌تر از ۴ و B مجموعه اعداد صحیح کم‌تر از ۴ باشد. آن‌گاه کدام مجموعه زیر نامتناهی است؟

- (۱) $A \cap B$ (۲) $A - B$ (۳) $B - (A \cup B)$ (۴) $A \cup B$

۴۱- اگر A مجموعه اعداد طبیعی مضرب ۳ و B مجموعه اعداد صحیح با قدرمطلق کم‌تر از ۱۰۰ باشد، کدام مجموعه در \mathbb{Z} متناهی است؟

انسانی داخل ۸۶

- (۱) $A - B$ (۲) $\mathbb{Z} - A$ (۳) $A \cap B$ (۴) $A \cup B$

انسانی داخل ۹۶

۴۲- اگر مجموعه $A = \left\{\frac{1}{x} \mid x \in \mathbb{N}\right\}$ و $B = \left\{\frac{x}{8} \mid x \in \mathbb{N}\right\}$ مفروض باشند، کدام یک از مجموعه‌های زیر متناهی است؟

- (۱) $A - B$ (۲) $B - A$ (۳) $A \cap B$ (۴) $A \cup B$

۴۳- اگر $A = [2a + 2, +\infty)$ ، $B = (-\infty, 4a - 6)$ و مجموعه $A \cap B$ متناهی باشد، بزرگ‌ترین محدوده a ، کدام است؟

- (۱) $a > 4$ (۲) $a < 4$ (۳) $a \geq 4$ (۴) $a \leq 4$

مشابه انسانی خارج ۹۶

۴۴- اگر A مجموعه اعداد طبیعی فرد و B مجموعه اعداد اول باشد، کدام مجموعه متناهی و غیرتهی است؟

- (۱) $A - B$ (۲) $B - A$ (۳) $A \cap B$ (۴) $A - (A \cup B)$

۴۵- اگر A یک مجموعه متناهی و B یک مجموعه نامتناهی باشد، کدام یک از مجموعه‌های زیر حتماً متناهی است؟

- (۱) $B - A$ (۲) $A - (B \cup A)$ (۳) $B - (A \cap B)$ (۴) $(A \cup B) \cap B$

۴۶- اگر B مجموعه‌ای دلخواه و $\mathbb{N} - B$ مجموعه‌ای متناهی و ناتهی باشد، کدام مجموعه زیر قطعاً نامتناهی است؟

- (۱) $B - \mathbb{Z}$ (۲) $B \cap \mathbb{Z}$ (۳) $B - \mathbb{N}$ (۴) $(\mathbb{N} - B) \cap \mathbb{Z}$

۴۷- در کدام گزینه دو مجموعه A و B داده شده هر دو نامتناهی بوده و $A \cup B = \mathbb{N}$ می شود؟

- (۱) مجموعه اعداد اول $A =$, مجموعه اعداد طبیعی زوج $B =$
 (۲) مجموعه اعداد طبیعی کوچکتر از $A = 100$, مجموعه اعداد طبیعی بزرگتر از $B = 100$
 (۳) مجموعه اعداد طبیعی که هم مضرب ۲ هستند و هم مضرب ۳ $A =$, مجموعه اعداد طبیعی که مضرب ۶ نیستند $B =$
 (۴) اعداد طبیعی نابیشتر از $A = 50$, اعداد طبیعی بیشتر از $B = 50$

برگرفته از کتاب درسی

۴۸- فرض کنید $B \subseteq A$ باشد، آنگاه کدام گزینه نادرست است؟

- (۱) اگر A متناهی باشد، لزوماً B نیز متناهی است.
 (۲) اگر A نامتناهی باشد، لزوماً B نامتناهی است.
 (۳) اگر B نامتناهی باشد، لزوماً A نیز نامتناهی است.
 (۴) اگر B متناهی باشد، مجموعه A می تواند متناهی یا نامتناهی باشد.

۴۹- در کدام شرایط زیر، مجموعه $A - (B - C)$ قطعاً نامتناهی است؟

- (۱) متناهی و B و C دو مجموعه دلخواه
 (۲) نامتناهی، B: متناهی و C: نامتناهی
 (۳) A و B و C هر سه نامتناهی
 (۴) نامتناهی، B: نامتناهی و C: متناهی

۵۰- اگر A مجموعه ای دلخواه و نامشخص، B مجموعه ای متناهی و C مجموعه ای نامتناهی باشد، کدام مجموعه حتماً متناهی است؟

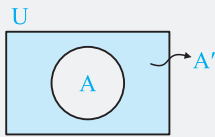
- (مجموعه مرجع را \mathbb{R} فرض کنید و $A \neq B, C$)
 (۱) $B \cup (A \cap C)$ (۲) $(B \cap A) \cup (C - A)$ (۳) $A - (B \cap C)$ (۴) $(B \cap C) - (C \cup A)$

درسنامه ۴

مجموعه مرجع و متمم

مجموعه مرجع: مجموعه ای است که تمام اعضای مجموعه های مورد بحث از آن انتخاب می شوند و آن را با U یا M نشان می دهند. مثلاً: وقتی می گوئیم از اعداد طبیعی، مضارب ۳ را انتخاب می کنیم، اعداد طبیعی مجموعه مرجع است.

مجموعه متمم: متمم مجموعه A که آن را با A' نشان می دهیم، مجموعه ای است که شامل همه اعضاهاى U (مجموعه مرجع) به غیر از اعضاهاى مجموعه A است. نمودار ون آن به شکل مقابل است:



$$A' = \{x \mid x \in U, x \notin A\} = U - A$$

مثال اگر U، مجموعه اعداد طبیعی یک رقمی و A مجموعه اعداد اول یک رقمی باشند، A' را بیابید.

پاسخ: $A' = U - A = \{1, 2, 3, \dots, 9\} - \{2, 3, 5, 7\} = \{1, 4, 6, 8, 9\}$

نکته به دلایل درستی نکات زیر فکر کنید تا خوب برایتان جا بیفتد.

- ۱ $U' = \emptyset$ و $\emptyset' = U$ ۲ $(A')' = A$ و $A \cap A' = \emptyset$ و $A \cup A' = U$ ۳ $B - A = B \cap A'$
 ۴ $A \subseteq B \Rightarrow B' \subseteq A'$ ۵ $(A \cup B)' = A' \cap B'$, $(A \cap B)' = A' \cup B'$ (قوانین دمورگان)

حالت کلی تر: $(A \cup B \cup C)' = A' \cap B' \cap C'$, $(A \cap B \cap C)' = A' \cup B' \cup C'$

مثال در جدول زیر متمم چند مجموعه را با توجه به مجموعه مرجع بیان شده به دست آورده ایم. به آن ها خوب توجه کنید.

مجموعه مرجع	مجموعه A	مجموعه A'
$\{-3, -2, -1, 0, 1, 2, 3\}$	$\{-3, -2, -1\}$	$\{0, 1, 2, 3\}$
\mathbb{N}	مجموعه اعداد زوج	مجموعه اعداد فرد
\mathbb{W}	$\{0\}$	\mathbb{N}
\mathbb{R}	$[4, +\infty)$	$(-\infty, 4)$
\mathbb{R}	$[3, 4)$	$(-\infty, 3) \cup [4, +\infty)$
\mathbb{R}	$(-\infty, 2) \cup (2, 3) \cup (4, +\infty)$	$\{2\} \cup [3, 4]$

۵۱- اگر $U = \{x \mid 1 \leq x < 9, x \in \mathbb{N}\}$ و $A = \{x \mid 2x < 7, x \in \mathbb{N}\}$ ، آنگاه A' چند عضو دارد؟

- ۷ (۴) ۶ (۳) ۵ (۲) ۴ (۱)

۵۲- اگر مجموعه مرجع، مجموعه اعداد طبیعی یک‌رقمی بوده و $A = \{1, 2, 3, 4\}$ ، $B = \{2, 4, 6, 8\}$ و $C' = \{3, 4, 5, 6\}$ باشد، آن‌گاه $(A \cup B)' \cap C$ کدام است؟

- (۱) $\{5, 7, 9\}$ (۲) $\{4, 5, 6\}$ (۳) $\{7, 9\}$ (۴) $\{5\}$

۵۳- اگر $A' = [-1, 3)$ و $B' = (-3, 2)$ و مجموعه مرجع \mathbb{R} باشد، آن‌گاه مجموعه $A - (A \cup B)$ شامل چند عدد صحیح است؟

- (۱) صفر (۲) ۱ (۳) ۲ (۴) بی‌شمار

۵۴- اگر $U = \{1, 2, 3, \dots, n\}$ و $A = \{n, n-1, n-2, \dots, 5\}$ ، آن‌گاه A' چند عضو دارد؟

- (۱) $n-5$ (۲) $n-4$ (۳) ۵ (۴) ۴

۵۵- کدام گزینه با $A \cup (A' \cap B)$ برابر است؟

- (۱) A (۲) B (۳) $A \cup B$ (۴) $A' \cup B'$

۵۶- حاصل $(A \cap B') \cup (B \cap A)$ کدام است؟

- (۱) B (۲) \emptyset (۳) A (۴) $A \cap B$

۵۷- اگر A و B دو مجموعه دلخواه باشند، $A - (A \cap B)$ کدام است؟

- (۱) $A \cap B$ (۲) \emptyset (۳) A' (۴) B'

۵۸- اگر $A \subseteq B$ باشد، $(B - A) \cup A$ کدام است؟

- (۱) A (۲) B (۳) \emptyset (۴) M

۵۹- متمم مجموعه $A - (B - A)$ ، نسبت به مجموعه مرجع کدام است؟

- (۱) $A \cup B$ (۲) $A \cap B$ (۳) $(A \cup B)'$ (۴) B

۶۰- اگر $A \subseteq B$ باشد، کدام گزینه نادرست است؟

- (۱) $B' - A = B'$ (۲) $A' - B = B'$ (۳) $A - B' = A$ (۴) $B - A' = B$

۶۱- اگر \mathbb{Z} مجموعه مرجع باشد، $\mathbb{N}' - \mathbb{W}'$ کدام است؟

- (۱) $\{0\}$ (۲) $\{\dots, -3, -2, -1\}$ (۳) $\{\dots, -2, -1, 0\}$ (۴) $\{\dots, -2, -1, 0\}$

۶۲- اگر A ، B و C سه مجموعه غیرتهی باشند، به طوری که $A \subseteq B$ ، آن‌گاه مجموعه $(A \cap (B \cap C')) \cap (A \cap B \cap C)$ کدام است؟

- (۱) B (۲) $A \cap C$ (۳) A (۴) $A \cap C'$

۶۳- اگر $A \subseteq B \subseteq C$ باشد، مجموعه $(A' \cap B')' \cap (A' \cap C)'$ برابر کدام است؟

- (۱) A (۲) B (۳) C (۴) $A - C$

۶۴- حاصل $[A \cap (A' \cup B)] \cup [B \cap (A' \cup B)']$ کدام است؟

- (۱) A (۲) B (۳) A' (۴) B'

۶۵- اگر A و B دو مجموعه غیرتهی باشند، آن‌گاه مجموعه $[A \cup (A \cap B)]' \cap [(B \cap A) \cup (B - A)]$ برابر کدام است؟

- (۱) $A' - B'$ (۲) $(A - B)'$ (۳) A' (۴) \emptyset

۶۶- متمم مجموعه $C \cup A' \cup B'$ ، نسبت به مجموعه جهانی، با کدام مجموعه برابر نیست؟

- (۱) $(A \cap B) - (A \cap C)$ (۲) $(A - C) \cup (B - C)$ (۳) $A \cap (B - C)$ (۴) $(A \cap B) - C$

۶۷- اگر مجموعه مرجع مجموعه اعداد طبیعی باشد و $A' = \{4, 6, 8, 10, 12\}$ و $B' = \{4, 5, 6, 7, 8\}$ باشد، $(A \cap B)'$ چند عضو دارد؟

- (۱) ۱۰ (۲) ۷ (۳) ۳ (۴) بی‌شمار

۶۸- اگر \mathbb{N} ، مجموعه مرجع باشد، آن‌گاه کدام گزینه همواره درست است؟

(۱) اگر A متناهی باشد، A' متناهی است.

(۲) اگر A نامتناهی باشد، A' نامتناهی است.

(۳) اگر A نامتناهی باشد، A' نامتناهی است.

(۴) اگر A متناهی باشد، A' نامتناهی است.

۶۹- اگر $A \subseteq B$ و A مجموعه‌ای نامتناهی باشد، آن‌گاه الزاماً کدام مجموعه نامتناهی است؟

- (۱) A' (۲) B' (۳) $A' \cap B'$ (۴) $A \cap B$

۷۰- اگر A و B دو زیرمجموعه از اعداد طبیعی و A متناهی و B نامتناهی باشد، کدام مجموعه الزاماً متناهی است؟

- (۱) $A' \cup B'$ (۲) $A \cap B'$ (۳) $A \cup B'$ (۴) $A' \cap B'$

ریاضی خارج ۸۸

ریاضی داخل ۹۰

ریاضی داخل ۸۹

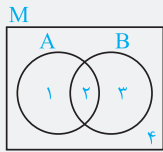
ریاضی خارج ۸۹

برگرفته از کتاب درسی

درسنامه ۵

یک روش جذاب و منحصر به فرد برای حل تست‌ها (روش شماره‌گذاری)

اکنون می‌خواهیم راجع به یک روش بسیار جالب صحبت کنیم که اگر آن را خوب یاد بگیرید، در تست‌ها خیلی جلو می‌افتید. بعضی راه‌های تستی انصافاً می‌توانند خیلی برای حل یک سؤال سخت کمک کنند. بخصوص در تست‌هایی که مجبورید چند گزینه را برای یافتن گزینه درست امتحان کنید. خوب ببینید: فرض کنید A و B دو مجموعه دلخواه باشند. در این روش ابتدا با استفاده از نمودار ون، A و B را نمایش داده و به هر کدام از نواحی مجزا یک شماره نسبت می‌دهیم.



سپس می‌توانیم نواحی مختلف را با بیان شماره‌هایشان معرفی کنیم. به عنوان مثال با توجه به شکل مقابل چند مجموعه زیر را به کمک اعداد می‌نویسیم:

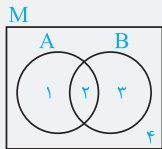
$$\Rightarrow A = \{1, 2\}, B = \{2, 3\}, A \cap B = \{2\}, A \cup B = \{1, 2, 3\}, (A \cup B)' = \{4\}$$

برای درک کاربرد این روش به مثال‌های زیر دقت کنید:

مثال مجموعه $(A - B) \cup B$ برابر کدام گزینه است؟

- $A \cup B$ (۴) $A \cap B$ (۳) B (۲) A (۱)

پاسخ: گزینه (۴)



ابتدا یک نمودار ون با مجموعه‌های A و B در حالت کلی رسم می‌کنیم. سپس با توجه به نمودار ون، حاصل $(A - B) \cup B$ را به کمک اعداد بیان می‌کنیم:

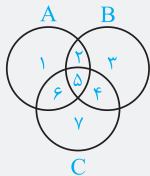
$$\Rightarrow (A - B) \cup B = (\{1, 2\} - \{2, 3\}) \cup \{2, 3\} = \{1\} \cup \{2, 3\} = \{1, 2, 3\}$$

حال اگر به نمودار ون نگاه کنیم، مجموعه $\{1, 2, 3\}$ ، همان مجموعه $A \cup B$ است. پس گزینه (۴) صحیح است.

مثال اگر $(A \cup B) \cap C = A \cup (B \cap C)$ باشد، آن‌گاه کدام گزینه درست است؟

- $C \subseteq A$ (۴) $A \subseteq C$ (۳) $A \subseteq B$ (۲) $B \subseteq C$ (۱)

پاسخ: گزینه (۳)



با توجه به نمودار ون، نواحی مجزا را شماره‌گذاری کرده و سپس مجموعه‌های $(A \cup B) \cap C$ و $A \cup (B \cap C)$ را به کمک اعداد بیان می‌کنیم:

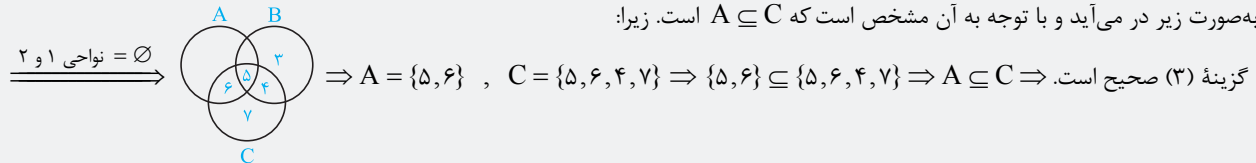
$$(A \cup B) \cap C = \{1, 2, 3, 4, 5, 6\} \cap \{4, 5, 6, 7\} = \{4, 5, 6\} \quad (*)$$

$$A \cup (B \cap C) = \{1, 2, 5, 6\} \cup \{4, 5\} = \{1, 2, 4, 5, 6\} \quad (**)$$

از طرفی با توجه به فرض تست، دو مجموعه $(*)$ و $(**)$ با هم مساوی‌اند. پس داریم:

$$\{4, 5, 6\} = \{1, 2, 4, 5, 6\}$$

برای برقراری تساوی فوق، اعداد ۱ و ۲ در مجموعه سمت راست نباید وجود داشته باشند. پس در نواحی ۱ و ۲ نباید عضو باشد. بنابراین نمودار ون به صورت زیر در می‌آید و با توجه به آن مشخص است که $A \subseteq C$ است. زیرا:



اگر این روش را خوب یاد گرفته باشید، خیلی جاها از سخت‌ترین تست‌ها لذت خواهید برد! دقت کنید که این روش در مسائل مجموعه که به صورت شرطی بیان می‌شوند بسیار پرکاربرد است و حل را بسیار راحت می‌کند.

۷۱- اگر A و B دو مجموعه غیرتهی باشند، $(A \cap B)' - (B - A)$ برابر کدام مجموعه است؟

- $A - B$ (۴) $A \cap B$ (۳) \emptyset (۲) B' (۱)

ریاضی خارج ۹۱

۷۲- مجموعه $(A - B)' \cap (A \cup B) \cap A'$ همواره برابر کدام است؟

- \emptyset (۴) A' (۳) B (۲) $B - A$ (۱)

ریاضی داخل ۸۸

۷۳- ساده‌شده مجموعه $(C \cap A \cap B) \cup (A - C) \cup (A - B)$ کدام است؟

- A' (۴) B' (۳) A (۲) B (۱)

۷۴- متمم مجموعه $[A - (A - B)] \cup (A \cap B)'$ کدام است؟

- \emptyset (۴) $A' \cup B'$ (۳) B' (۲) U (۱)

۷۵- اگر A و B دو مجموعه غیر تهی باشند، مجموعه $(A \cap (A' \cup B)) \cup (B \cap (A' \cup B'))$ برابر کدام است؟

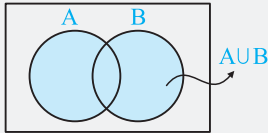
A (۴)

B (۳)

$A \cup B$ (۲)

$A \cap B$ (۱)

تعداد اعضای اجتماع دو مجموعه $(n(A \cup B))$



اگر A و B دو مجموعه متناهی دلخواه باشند، تعداد اعضای اجتماع آن دو مجموعه از فرمول زیر به دست می‌آید:

$$n(A \cup B) = n(A) + n(B) - n(A \cap B)$$

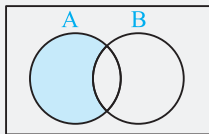
که در آن $n(A \cup B)$ ، تعداد اعضای است که در A یا در B یا در هر دوی آن‌ها قرار دارد (تعداد اعضای که حداقل در یکی از مجموعه‌های A یا B قرار دارند). همچنین $n(A \cap B)$ ، تعداد اعضای است که هم در A و هم در B حضور دارند.

مثال اگر $n(A) = 10$ ، $n(B) = 7$ و $n(A \cup B) = 15$ باشد، تعداد اعضای که در هر دو مجموعه A و B قرار دارند را بیابید.

پاسخ: خواسته سؤال $n(A \cap B)$ است که با توجه به فرمول بیان شده داریم:

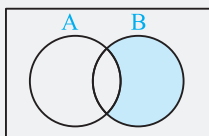
$$n(A \cup B) = n(A) + n(B) - n(A \cap B) \Rightarrow 15 = 10 + 7 - n(A \cap B) \Rightarrow n(A \cap B) = 2$$

نکته



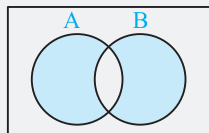
۱) تعداد اعضای که فقط در مجموعه A قرار دارند را با $n(A - B)$ نمایش داده و از فرمول زیر محاسبه می‌کنند:

$$n(A - B) = n(A \cap B') = n(A) - n(A \cap B)$$



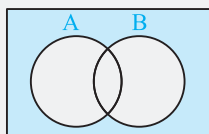
۲) تعداد اعضای که فقط در مجموعه B قرار دارند را با $n(B - A)$ نمایش داده و از فرمول زیر محاسبه می‌کنند:

$$n(B - A) = n(B \cap A') = n(B) - n(A \cap B)$$



۳) تعداد اعضای که فقط در مجموعه A یا فقط در مجموعه B قرار دارند را با $n((A - B) \cup (B - A))$ نمایش داده و از فرمول زیر محاسبه می‌کنند:

$$n((A - B) \cup (B - A)) = n(A \cup B) - n(A \cap B) = n(A) + n(B) - 2n(A \cap B)$$



۴) تعداد اعضای که نه در A و نه در B قرار دارند را با $n(A' \cap B')$ نمایش داده و از فرمول زیر محاسبه می‌کنند:

$$n(A' \cap B') = n((A \cup B)') = n(U) - n(A \cup B) = n(U) - (n(A) + n(B) - n(A \cap B))$$

روش حل مسائل:

برای حل مسائل مربوط به این قسمت، ابتدا نمودار ون مقابل را رسم کرده و به ترتیب زیر اطلاعات مسأله را روی نمودار وارد می‌کنیم:

مرحله ۱: در ناحیه اشتراک دو مجموعه A و B عدد x را می‌نویسیم.

مرحله ۲: در طرفین ناحیه اشتراک دو مجموعه A و B ، عبارات $n(A) - x$ و $n(B) - x$ را می‌نویسیم.

مرحله ۳: در ناحیه خارج از اجتماع دو مجموعه A و B ، عبارت $n(U) - n(A \cup B)$ را می‌نویسیم.

دقت کنید که با توجه به شکل، $n(A \cup B)$ ، همان $(n(A) - x) + x + (n(B) - x)$ یا $n(A) + n(B) - x$ است.

مثال در یک کلاس ۴۰ نفره، ۲۵ نفر در درس ریاضی و ۳۰ نفر در درس فیزیک قبول شده‌اند. هم‌چنین ۲۰ نفر در هر دو درس قبول

شده‌اند. در این صورت:

(ب) چند نفر فقط در درس فیزیک قبول شده‌اند؟

(الف) چند نفر در درس ریاضی قبول نشده‌اند؟

(ج) چند نفر حداقل در یکی از دروس ریاضی یا فیزیک قبول شده‌اند؟ (د) چند نفر فقط در یکی از دو درس ریاضی یا فیزیک قبول شده‌اند؟

(ه) چند نفر در هیچ‌کدام از دو درس ریاضی و فیزیک قبول نشده‌اند؟ (و) چند نفر حداکثر در یکی از دروس ریاضی یا فیزیک قبول شده‌اند؟



۹۶- اگر A و B دو مجموعه جدا از هم باشند، آنگاه کدام رابطه همواره درست است؟

(۱) $n(U) = n(A) + n(B) + n(A' \cup B')$
 (۲) $n(U) = n(A) + n(B) + n(A' \cap B')$
 (۳) $n(A) \times n(B) = 1 - n(A' \cup B')$
 (۴) $n(A) \times n(B) = 1 - n(A') \times n(B')$



۹۷- اگر A, B و C سه مجموعه دوه دو جدا از هم باشند و داشته باشیم $n(A \cup B) = ۸$ ، $n(B \cup C) = ۱۰$ و $n(A \cup C) = ۶$ ،

آنگاه $n(A \cup B \cup C)$ کدام است؟

(۱) ۲۴ (۲) ۱۲ (۳) ۶ (۴) ۹

درسنامه ۸

الگو

جمله عمومی الگو: جمله n ام یک الگو را که در آن n عدد طبیعی دلخواه می‌باشد، جمله عمومی الگو می‌نامند و معمولاً آن را با t_n یا a_n نمایش می‌دهند.

مثال اگر جمله عمومی یک الگو به صورت $a_n = 2n^2 + 1$ باشد، سه جمله اول آن را به دست آورید.

پاسخ:

جمله سوم الگو: $a_3 = 2(3)^2 + 1 = ۱۹$ ، جمله دوم الگو: $a_2 = 2(2)^2 + 1 = ۹$ ، جمله اول الگو: $a_1 = 2(1)^2 + 1 = ۳$

مثال به کمک چوب کبریت، شکل‌های زیر را ساخته‌ایم. با به دست آوردن یک الگو بگویید که:



(الف) در شکل n ام چند چوب کبریت به کار رفته است؟ (جمله عمومی الگو را بیابید).

(ب) در شکل ۱۰ام چند چوب کبریت به کار رفته است؟

پاسخ: (الف) همان‌طور که از شکل‌ها مشخص است، در مرحله اول، ۴ چوب کبریت به کار رفته و در هر مرحله بعدی تعداد چوب کبریت‌ها ۴ تا نسبت به مرحله قبلی بیشتر شده است. پس در شکل n ام، تعداد چوب کبریت‌ها برابر $(4n)$ است.

(ب) برای پیدا کردن تعداد چوب کبریت‌ها در شکل دهم، کافی است در جمله عمومی الگو یعنی $a_n = 4n$ ، n را برابر ۱۰ قرار دهیم:

$a_{10} = 4(10) = ۴۰$

الگوی خطی

الگوهایی که جمله عمومی آن‌ها به صورت $t_n = an + b$ باشد را «الگوی خطی» می‌گویند (a و b اعداد حقیقی دلخواه ثابت). در این الگوها، اختلاف هر دو جمله متوالی، مقدار ثابت a (ضریب n) است.

مثال آیا الگویی با جملات $۵, ۸, ۱۱, ۱۴, \dots$ خطی است؟

پاسخ: بله، زیرا اختلاف هر دو جمله متوالی آن، مقدار ثابت ۳ است:

$5, 8, 11, 14, \dots$
 $+3 \quad +3 \quad +3$

مثال در یک الگوی خطی، جملات سوم و هفتم به ترتیب ۷ و ۱۵ است. ابتدا جمله عمومی الگو را بیابید و سپس جمله بیستم آن را محاسبه کنید.

پاسخ: جمله عمومی الگوی خطی به صورت $t_n = an + b$ است. داریم:

$$\begin{cases} t_3 = 7 \Rightarrow 3a + b = 7 \\ t_7 = 15 \Rightarrow 7a + b = 15 \end{cases} \xrightarrow{\text{حل دستگاه}} a = 2, b = 1 \Rightarrow t_n = 2n + 1$$

برای محاسبه جمله بیستم یعنی t_{20} در جمله عمومی به جای n ، ۲۰ قرار می‌دهیم:

$t_n = 2n + 1 \xrightarrow{n=20} t_{20} = 2(20) + 1 = ۴۱$

مثال اگر $t_n = (2a - 4)n^2 + (a + 1)n - a$ یک الگوی خطی باشد، جمله هفتم آن را بیابید.

پاسخ: در یک الگوی خطی توان n حداکثر می‌تواند برابر ۱ باشد. پس ضریب n^2 باید صفر باشد:

$2a - 4 = 0 \Rightarrow a = 2 \Rightarrow t_n = (2 + 1)n - 2 = 3n - 2 \Rightarrow t_7 = 3(7) - 2 = ۱۹$

۹۸- چهار جمله اول یک الگو به صورت $t_1 = -1$ ، $t_2 = ۸$ ، $t_3 = -۲۷$ ، $t_4 = ۶۴$ است. جمله هفتم این الگو کدام است؟

(۱) -۳۴۳ (۲) ۳۴۳ (۳) -۲۱۶ (۴) ۲۱۶

$۱^۳ = ۱^۳$

$۱^۳ + ۲^۳ = ۳^۳$

$۱^۳ + ۲^۳ + ۳^۳ = ۶^۳$

۹۹- عدد حاصل از مرحله پنجم الگوی روبه‌رو کدام است؟

(۱) ۱۹۶ (۲) ۲۱۶ (۳) ۲۲۵ (۴) ۲۵۶

پاسخ‌های تشریحی

۱ ۳ می‌دانیم $W \subseteq Z$ پس $W \cup Z = Z$ می‌شود و چون Z زیرمجموعه W نمی‌باشد، پس $W \cup Z \subseteq W$ غلط و گزینه (۳) جواب تست است.

بررسی سایر گزینه‌ها:

✓ (۴) $W \cap Z \stackrel{W \subseteq Z}{=} W \subseteq W$: گزینه (۴) ✓ (۲) $N \cap W = N \subseteq W$: گزینه (۲) ✓ (۱) $N \cup W \stackrel{N \subseteq W}{=} W \subseteq W$: گزینه (۱)

۲ ۳ حاصل تک‌تک گزینه‌ها را می‌یابیم:

(۱) $N - O = \{1, 2, 3, 4, \dots\} - \{1, 3, 5, \dots\} = \{2, 4, 6, \dots\} = E$

(۲) $O - E = \{1, 3, 5, \dots\} - \{2, 4, 6, \dots\} = \{1, 3, 5, \dots\} = O$

این دو هیچ اشتراکی ندارند، پس از مجموعه اول چیزی کم نمی‌شود.

✓ (۳) $E - N = \{2, 4, 6, \dots\} - \{1, 2, 3, \dots\} \stackrel{\text{هیچ عضوی از مجموعه اول}}{\neq \emptyset}$ وجود ندارد که در N نباشد.

(۴) $W - N = \{0, 1, 2, 3, \dots\} - \{1, 2, 3, \dots\} = \{0\}$

۳ ۳ با بررسی گزینه‌ها باید ببینیم به‌ازای کدام گزینه، $B = \emptyset$ می‌شود:

(۱) $A = W - N = \{0, 1, 2, 3, \dots\} - \{1, 2, 3, \dots\} = \{0\}$

پس B به‌صورت زیر بازنویسی می‌شود:

$B = \{x \mid x^2 < 1, x \in \{0\}\} \xrightarrow{x=0} B = \{0\} \neq \emptyset \Rightarrow$ این گزینه جواب نیست.

(۲) $B = \{x \mid x^2 < 1, x \in Q - Z\}$

B ، تهی نیست، زیرا مثلاً اگر $x = \frac{1}{2}$ را در نظر بگیریم، آن‌گاه $\left(\frac{1}{2}\right)^2 = \frac{1}{4} < 1$ پس این گزینه هم جواب نیست.

(۳) $Z - W = \{\dots, -3, -2, -1, 1, 2, 3, \dots\} - \{0, 1, 2, 3, \dots\} = \{\dots, -3, -2, -1\}$

پس B به‌صورت زیر نوشته می‌شود:

$B = \{x \mid x^2 < 1, x \in \{\dots, -3, -2, -1\}\}$

به‌ازای هیچ x ای از مجموعه $\{\dots, -3, -2, -1\}$ ، $x^2 < 1$ نمی‌شود. پس $B = \emptyset$ و همین گزینه جواب است.

(۴) $B = \{x \mid x^2 < 1, x \in \{\dots, -4, -2, 0, 2, 4, \dots\}\}$

فقط به‌ازای $x = 0$ از مجموعه $\{\dots, -4, -2, 0, 2, 4, \dots\}$ ، $x^2 = 0 < 1$ می‌شود و لذا $B = \{0\}$ غیرتهی است.

۴ ۴ ابتدا هر یک از مجموعه‌ها را می‌نویسیم:

$A = \{11, 13, 15, 17, 19\} \Rightarrow A \cup B = \{11, 12, 13, 15, 17, 18, 19\}$

$B = \{12, 15, 18\}$

$A \cup B$ ، A عضو 7 و 5 عضو دارند. پس $A \cup B$ دو عضو بیشتر از A دارد.

۴ ۵

کلمه مجموعه $\left\{x \in \mathbb{N} \mid \frac{a}{x} \in \mathbb{N}\right\}$ بیانگر مقسوم‌علیه‌های طبیعی عدد طبیعی a می‌باشد. زیرا فقط x هایی انتخاب می‌شوند که a بر آن‌ها بخش پذیر باشد.

$A = \left\{x \in \mathbb{N} \mid \frac{12}{x} \in \mathbb{N}\right\} = \text{مقسوم‌علیه‌های طبیعی عدد } 12 = \{1, 2, 3, 4, 6, 12\}$
 $\Rightarrow A \cap B = \{1, 2, 3, 6\} \Rightarrow$ عضو دارد. ۴

$B = \left\{x \in \mathbb{N} \mid \frac{18}{x} \in \mathbb{N}\right\} = \text{مقسوم‌علیه‌های طبیعی عدد } 18 = \{1, 2, 3, 6, 9, 18\}$

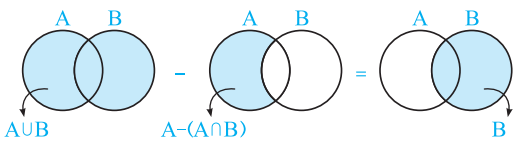
در واقع $A \cap B$ بیانگر شمارنده‌های مشترک ۱۲ و ۱۸ می‌باشد.

۳ ۶ راه اول:

$A \cup B = \{2, 3, 4, 5, 6, 7, 8\}$ و $A \cap B = \{2, 6\}$

$\Rightarrow (A \cup B) - [A - (A \cap B)] = \{2, 3, 4, 5, 6, 7, 8\} - [\{2, 3, 4, 6, 7, 8\} - \{2, 6\}]$

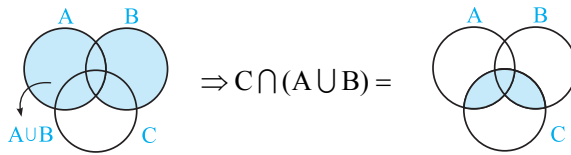
$= \{2, 4, 5, 6, 7, 8\} - \{3, 4, 6, 7, 8\} = \{2, 5\}$ چهار عضو دارد.



راه دوم: ابتدا مجموعه خواسته شده را ساده می‌کنیم:
 پس عبارت $(A \cup B) - (A - (A \cap B))$ همان مجموعه $B = \{2, 4, 5, 6\}$ است. لذا ۴ عضو دارد.

۴ ۷

می‌خواهیم مسأله را طوری حل کنیم که روش حل کلی این نوع تست‌ها را خوب یاد بگیریم. ببینید، معلوم است که گزینه‌های (۲) و (۳) نمی‌توانند جواب باشند، زیرا در گزینه (۲) به علت وجود $A \cup B$ ، جواب باید شامل کل A باشد، در حالی که قسمت سایه‌خورده در شکل فقط بخشی از A را دربرمی‌گیرد. مشابهاً در گزینه (۳) به خاطر وجود $C \cup B$ جواب باید همه C را دربر بگیرد که با توجه به شکل چنین اتفاقی نیفتاده است. هم‌چنین در گزینه (۱)، عبارت $A \cap B$ ، یعنی فقط قسمتی از A باید جواب باشد ولی بخشی از ناحیه سایه‌خورده خارج از A قرار دارد و لذا گزینه (۴) جواب است. ببینید:



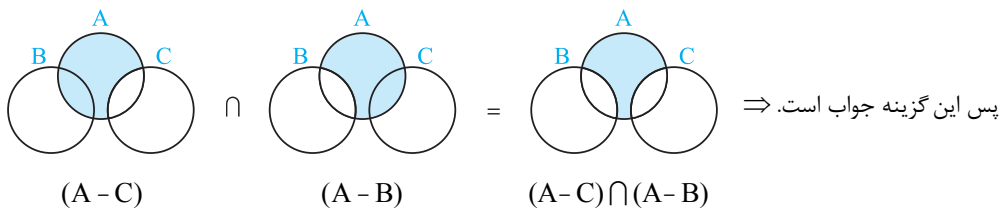
۲ ۸ بررسی گزینه‌ها:

$$A - (B \cap C) \stackrel{\text{با توجه به شکل صورت سؤال}}{B \cap C = \emptyset} = A - \emptyset = A$$

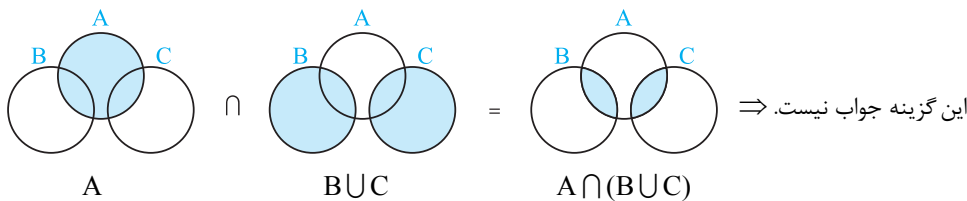
گزینه (۱):

شکل صورت تست، کل A را نشان نمی‌دهد، پس این گزینه جواب نیست.

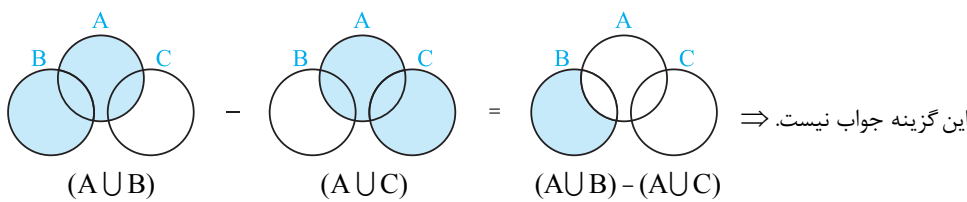
گزینه (۲):



گزینه (۳):



گزینه (۴):



۲ ۹ ابتدا اعضای مجموعه‌های $A \cup B$ و $A \cup C$ را می‌یابیم:

$$A \cup B = \{1^2, 2^2, 3^2, 4^2, 5^2, 6^2, 7^2, 8^2\} = \{1, 4, 9, 16, 25, 36, 49, 64\} \quad (*)$$

$$A \cup C = \{1^3, 2^3, 3^3, 4^3, 5^3, \dots\} = \{1, 8, 27, 64, 125, \dots\} \quad (**)$$

حال برویم سراغ چیزی که تست از ما خواسته است:

$$A \cup (B \cap C) = (A \cup B) \cap (A \cup C)$$

$$\stackrel{(**), (*)}{=} \{1, 4, 9, 16, 25, 36, 49, 64\} \cap \{1, 8, 27, 64, 125, \dots\} = \{1, 64\}$$

۲ ۱۰ از آن‌جا که $\mathbb{R} = [-4, 6] \cup (6, +\infty) \cup (-\infty, 4)$ و اشتراک این دو مجموعه، تهی است، پس $\mathbb{R} - [-4, 6] = (-\infty, 4) \cup (6, +\infty)$. به

عبارتی:

$$(-\infty, 4) \cup (6, +\infty) = \text{شماره خطی} = \mathbb{R} - [-4, 6]$$

۴ ۱۱

تکنه کلمه «و» در مجموعه‌ها معادل اشتراک (\cap) و کلمه «یا» معادل اجتماع (\cup) می‌باشد.

در گزینه (۴) داریم:

$$\{x \in \mathbb{R} \mid x \leq -2 \text{ یا } x > 1\} = (-\infty, -2] \cup (1, +\infty) = \mathbb{R} - (-2, 1]$$

اما در سایر گزینه‌ها داریم:

معادل «و»

$$(1) \text{ گزینه } (-\infty, -2] \cap (1, +\infty) = \emptyset$$

معادل «و»

$$(2) \text{ گزینه } (-\infty, -2] \cap (1, +\infty) = \emptyset$$

معادل «یا»

$$(3) \text{ گزینه } (-\infty, -2] \cup (1, +\infty) = \mathbb{R} - (-2, 1)$$

سؤال دانش‌پژوه (نعیمه پولکی): ببخشید، میشه بگید چرا اشتراک در گزینه‌های (۱) و (۲)، \emptyset شد؟

کچر پاسخ: درود! اشتراک دو بازه یعنی قسمتی که بین هر دو بازه مشترک است. اون دو خط رسم شده هیچ وقت با هم از یک پا رد نشدن. مثلاً

اگه جواب $(-\infty, 3) \cap (1, +\infty)$ را بخواهیم داریم:

$$(1, +\infty) \cap (-\infty, 3) = (1, 3)$$

وقتی کلمه «یا» وجود دارد، یعنی باید اجتماع بگیریم.

۲ ۱۲

$$\{x \in \mathbb{R} \mid x > -2 \text{ یا } x \leq 3\} = (-2, +\infty) \cup (-\infty, 3] = \mathbb{R}$$

دقت کنید اجتماع برای این \mathbb{R} شد که دو بازه‌ای که اجتماع آن‌ها را می‌خواستیم، کل محور را شامل می‌شوند.

سؤال دانش‌پژوه (حسن بوربور): آقا اجتماع این دو بازه $(-2, 3)$ همیشه؟

کچر پاسخ: درود بر هرپی بوربور! به‌به! دیکه پی؟ نه همیشه، اشتراک دو مجموعه رو نفواسته که جواب $(-2, 3)$ بشه، بلکه اجتماع اون‌ها رو فواسته.

بررسی گزینه‌ها:

۴ ۱۳

گزینه (۱): این گزینه صحیح است. زیرا:

$$(-1, 4] \cap (2, +\infty) = (2, 4] \Rightarrow \sqrt{3} \approx 1.7 \notin (2, 4]$$

گزینه (۲): اعداد $\frac{\Delta b}{\gamma} = 2/5b$ و $2b$ هر دو عضو بازه $[b, 3b]$ هستند، پس $\left\{\frac{\Delta b}{\gamma}, 2b\right\}$ زیرمجموعه $[b, 3b]$ بوده و این گزینه صحیح است.

گزینه (۳): این گزینه صحیح است. زیرا:

$$(-2, 5) \cup (-3, +\infty) = (-3, +\infty) \Rightarrow 6/022 \times 10^{23} \in (-3, +\infty)$$

در حقیقت $6/022 \times 10^{23}$ عددی خیلی بزرگ و مثبت است و بازه $(-3, +\infty)$ شامل همه اعداد حقیقی مثبت است.

گزینه (۴): نادرست است. زیرا بازه $[-1, 2]$ شامل عدد -1 است که این عدد در بازه $(-1, 2)$ حضور ندارد. پس بازه $[-1, 2]$ نمی‌تواند زیرمجموعه $(-1, 2)$ باشد.

بررسی گزینه‌ها:

۳ ۱۴

گزینه (۱): $(-3, 0) \cup (-2, 5) = (-3, 5)$

گزینه (۲): $(-\infty, 6] \cap (2, 9) = (2, 6]$

گزینه (۳): $(3, +\infty) \cup (6, 10] = (3, +\infty)$ ✓

گزینه (۴): $(-\infty, 1) \cap [1, +\infty) = \emptyset$

۳ ۱۵

نکته مجموعه $(x, y) \cup \{z\}$ در صورتی بازه نیم‌باز است که z با یکی از x یا y برابر باشد. یعنی:

$$(x, y) \cup \{z\} = \begin{cases} z = x : (x, y) \cup \{x\} = [x, y) \\ \text{یا} \\ z = y : (x, y) \cup \{y\} = (x, y] \end{cases}$$

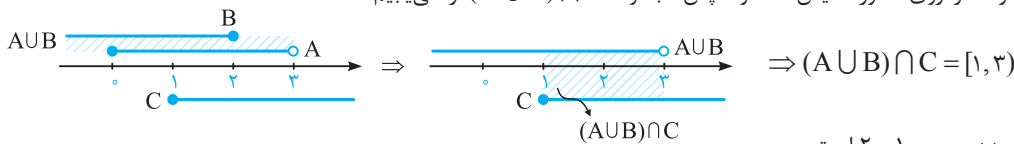
با توجه به نکته بیان شده داریم:

$$(a-2, 2a+1) \cup \{3a\} \Rightarrow \begin{cases} \text{حالت (۱): } a-2 = 3a \Rightarrow a = -1 \xrightarrow[\text{در مجموعه}]{\text{جایگذاری}} (-3, -1) \cup \{-3\} = [-3, -1) \\ \text{حالت (۲): } 2a+1 = 3a \Rightarrow a = 1 \xrightarrow[\text{در مجموعه}]{\text{جایگذاری}} (-1, 3) \cup \{3\} = (-1, 3] \end{cases}$$

پس a می‌تواند ۱ یا -1 باشد که مجموع مقادیر ممکن a برابر $-1+1=0$ است.

مجموعه‌های A ، B و C را روی محور نمایش داده و سپس مجموعه $(A \cup B) \cap C$ را می‌یابیم:

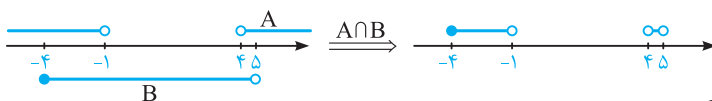
۳ ۱۶



بازه حاصل شامل دو عدد صحیح ۱ و ۲ است.

ابتدا مجموعه‌های $A = (-\infty, -1) \cup (4, +\infty)$ و $B = (-\infty, 5) \cap [-4, +\infty) = [-4, 5)$ را روی محور رسم می‌کنیم و سپس به کمک نمودار، اشتراک A و B را می‌یابیم:

۳ ۱۷



با توجه به گزینه‌ها فقط بازه $[-4, -2)$ زیرمجموعه $A \cap B$ می‌باشد.

از شکل مقابل نتیجه می‌گیریم که $6x-15 < 3 < 5x-7$ زیرا $6x-15 < 3 < 5x-7$ است. پس داریم:

۱ ۱۸

$$\begin{cases} 6x-15 < 3 \Rightarrow 6x < 18 \Rightarrow x < 3 \\ 3 < 5x-7 \Rightarrow 10 < 5x \Rightarrow 2 < x \end{cases} \Rightarrow 2 < x < 3$$

با توجه به شکل، نتیجه می‌گیریم که $B \subseteq A$ بوده و لذا داریم:

۴ ۱۹

$$\begin{cases} 3a+7 < 4 \Rightarrow 3a < -3 \Rightarrow a < -1 \\ -3 < a-1 \Rightarrow -2 < a \end{cases} \Rightarrow -2 < a < -1$$

سؤال دانش‌پژوه (اکبر پفر): آقا اجازه نباید شرط $a-1 < 3a+7$ را هم چک کنیم؟

کج پاسخ: آخرین البته من توی ذهنم اونو هم چک کردم ولی فب ببین:

$$a-1 < 3a+7 \Rightarrow -8 < 2a \Rightarrow -4 < a$$

که جواب به دست آمده در این شرط صدق می‌کند.



$2a+7$ حتماً باید از -1 بزرگ‌تر باشد تا بازه $[-4, 2a+7)$ حداقل شامل چهار عدد صحیح $-4, -3, -2, -1$ شود.

۱ ۲۰

اما طبق فرض سؤال، بازه $[-4, 2a+7)$ دقیقاً باید شامل چهار عدد صحیح باشد و نه بیشتر! پس $2a+7$ حداکثر می‌تواند صفر باشد. زیرا در این صورت بازه به صورت $(-4, 0)$ درمیآید که مجدداً شامل همان چهار عدد صحیح $-4, -3, -2, -1$ می‌شود. پس داریم:

$$-1 < 2a+7 \leq 0 \xrightarrow{-7} -8 < 2a \leq -7 \Rightarrow -4 < a \leq -\frac{7}{2} \Rightarrow -4 < a \leq -3.5$$

ابتدا مجموعه‌های A و B را می‌یابیم:

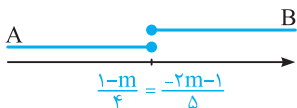
۳ ۲۱

$$A = \left\{ x \mid 2x+m \leq \frac{m+1}{2} \right\} : 2x+m \leq \frac{m+1}{2} \Rightarrow 2x \leq \frac{m+1}{2} - m \Rightarrow 2x \leq \frac{m+1-2m}{2}$$

$$\Rightarrow 2x \leq \frac{1-m}{2} \Rightarrow x \leq \frac{1-m}{4}$$

$$B = \{ x \mid m-5x \leq 3m+1 \} : m-5x \leq 3m+1 \Rightarrow m-3m-1 \leq 5x \Rightarrow \frac{-2m-1}{5} \leq x$$

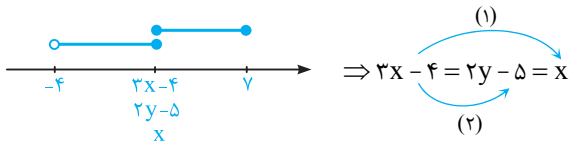
برای آن‌که $A \cap B$ فقط یک عضو داشته باشد، به ناچار باید داشته باشیم:



$$\frac{1-m}{4} = \frac{-2m-1}{5} \Rightarrow 5-5m = -8m-4 \Rightarrow 3m = -9 \Rightarrow m = -3$$

۱ ۲۲

از تساوی $\{x\} = [2y - 5, 7] \cap [-4, 3x - 4]$ متوجه می‌شویم که موقعیت نسبی مجموعه‌ها باید به صورت زیر باشد:



$$\begin{aligned} (1) & \Rightarrow 3x - 4 = 2y - 5 = x \\ (2) & \end{aligned}$$

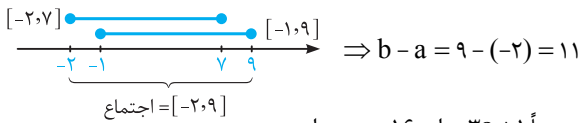
$$\Rightarrow \begin{cases} (1): 3x - 4 = x \Rightarrow 2x = 4 \Rightarrow x = 2 (*) \\ (2): 3x - 4 = 2y - 5 \xrightarrow{(*)} 3(2) - 4 = 2y - 5 \Rightarrow 2 = 2y - 5 \Rightarrow 2y = 7 \Rightarrow y = \frac{7}{2} \end{cases}$$

$$2y + x = 2\left(\frac{7}{2}\right) + 2 = 9$$

بنابراین:

۳ ۲۳

طبق فرض $[-1, b] \cup [a, 7] = [-2, 9]$ شده است. پس b باید برابر ۹ و a باید برابر -2 باشد، علت آن را روی محور بیان می‌کنیم:



اجتماع دو بازه $(a - 2b, 9)$ و $(7, 3a + 1)$ برابر $(7, 16)$ شده است. پس حتماً $3a + 1$ برابر ۱۶ بوده و داریم:

۲ ۲۴

$$3a + 1 = 16 \Rightarrow 3a = 15 \Rightarrow a = 5$$

از طرفی چون ابتدای بازه اجتماع عدد ۷ بوده، نتیجه می‌گیریم $7 \leq a - 2b$ بوده. هم‌چنین انتهای بازه همیشه بزرگ‌تر از ابتدای بازه است، پس در بازه $(a - 2b, 9)$ نتیجه می‌گیریم $a - 2b < 9$. بنابراین:

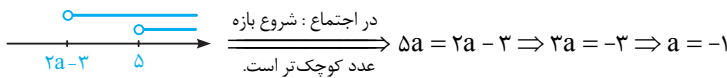
$$7 \leq a - 2b < 9 \xrightarrow{a=5} 7 \leq 5 - 2b < 9 \xrightarrow{-5} 2 \leq -2b < 4 \xrightarrow{\div(-2)} -1 \geq b > -2 \xrightarrow{b \in \mathbb{Z}} b = -1$$

پس $a - b = 6$.

۲ ۲۵

اجتماع دو بازه $(5, 6)$ و $(2a - 3, -2a + 3)$ برابر بازه $(\Delta a, b)$ است که شروع بازه آن Δa می‌باشد. سه حالت زیر را بررسی می‌کنیم:

حالت (۱): $2a - 3 < 5$ باشد:



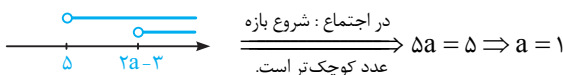
$$\begin{aligned} \text{در اجتماع: شروع بازه} & \xrightarrow{\text{عدد کوچک‌تر است.}} \Delta a = 2a - 3 \Rightarrow 3a = -3 \Rightarrow a = -1 \end{aligned}$$

در این حالت اجتماع بازه‌ها به صورت $(\Delta a, b) \xrightarrow{a=-1} (-5, b)$ در می‌آید و داریم:

$$(2a - 3, -2a + 3] \cup (5, 6) \xrightarrow{a=-1} (-5, 5] \cup (5, 6) = (-5, 6) = (-5, b) \Rightarrow b = 6 \Rightarrow a + b = -1 + 6 = 5$$

حالت (۲): $2a - 3 = 5$. در این حالت با حل معادله $2a - 3 = 5$ به $a = 4$ می‌رسیم که به ازای آن بازه $[2a - 3, -2a + 3]$ به صورت $(5, -5)$ درمی‌آید که چون ابتدای بازه بزرگ‌تر از انتهای آن شده! پس این حالت غلط است.

حالت (۳): $2a - 3 > 5$ باشد:



$$\begin{aligned} \text{در اجتماع: شروع بازه} & \xrightarrow{\text{عدد کوچک‌تر است.}} \Delta a = 5 \Rightarrow a = 1 \end{aligned}$$

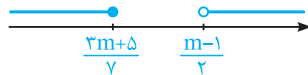
با جایگذاری $a = 1$ داریم:

$$(2a - 3, -2a + 3] \cup (5, 6) \xrightarrow{a=1} (-1, 1] \cup (5, 6)$$

در این حالت اجتماع دو بازه فوق را نمی‌توان به صورت یک بازه $(\Delta a, 6)$ نمایش داد. پس این حالت غلط است.

ابتدا دو مجموعه $(-\infty, \frac{3m+5}{7}]$ و $(\frac{m-1}{2}, +\infty)$ را روی محور رسم می‌کنیم:

۴ ۲۶



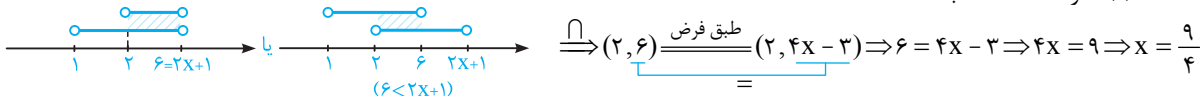
با توجه به شکل، اگر قرار باشد اجتماع این دو مجموعه، \mathbb{R} (مجموعه اعداد حقیقی) شود، باید داشته باشیم:

$$\frac{3m+5}{7} \geq \frac{m-1}{2} \Rightarrow 2(3m+5) \geq 7(m-1) \Rightarrow 6m+10 \geq 7m-7 \Rightarrow 17 \geq m$$

با توجه به بازه‌های $(1, 6)$ و $(2, 2x+1)$ ، می‌توان دو حالت زیر را به بررسی کرد:

۲ ۲۷

حالت (۱): اگر $6 \leq 2x+1$ باشد:



$$\begin{aligned} \text{طبق فرض} & \Rightarrow (2, 6) \cap (2, 2x+1) = (2, 6) \Rightarrow 6 = 2x+1 \Rightarrow 2x = 5 \Rightarrow x = \frac{5}{2} \end{aligned}$$

حال چک کنیم به ازای $x = \frac{5}{2}$ جواب درست درمی‌آید یا خیر:

$$(1, 6) \cap (2, 2x+1) = (2, 2x+1) \xrightarrow{x=\frac{5}{2}} (1, 6) \cap (2, 2(\frac{5}{2})+1) = (2, 2(\frac{5}{2})-3) = (2, 5/5) = (2, 6) \text{ غلطه!}$$

(2, 5/5)

حالت (۲): اگر $2x + 1 > 6$ باشد:

$$\begin{array}{c} \text{---} \circ \text{---} \circ \text{---} \\ | \quad | \quad | \quad | \\ 1 \quad 2 \quad 2x+1 \quad 6 \end{array} \rightarrow \bigcap (2, 2x+1) \xrightarrow{\text{طبق فرض}} (2, 4x-3) \Rightarrow 2x+1 = 4x-3 \Rightarrow 2x = 4 \Rightarrow x = 2$$

به ازای $x = 2$ درستی جواب را بررسی کنیم:

$$(1, 6) \cap (2, 2x+1) \stackrel{?}{=} (2, 4x-3) \xrightarrow{x=2} (1, 6) \cap (2, 5) = (2, 5) \quad \checkmark$$

$$x^2 + 5x \stackrel{x=2}{=} 2^2 + 5(2) = 4 + 10 = 14$$

با توجه به تساوی $[3, 6] \cap [5x+1, -3x-6] = \emptyset$ باید یکی از دو حالت زیر رخ دهد:

۲ ۲۸

حالت (۱):

$$\begin{array}{c} \text{---} \bullet \text{---} \bullet \text{---} \\ | \quad | \quad | \quad | \\ 3 \quad 6 \quad 5x+1 \quad -3x-6 \end{array} \rightarrow 6 < 5x+1 \Rightarrow 5 < 5x \Rightarrow x > 1$$

حالت (۲):

$$\begin{array}{c} \text{---} \bullet \text{---} \bullet \text{---} \\ | \quad | \quad | \quad | \\ 5x+1 \quad -3x-6 \quad 3 \quad 6 \end{array} \rightarrow -3x-6 < 3 \Rightarrow -3x < 9 \Rightarrow x > -3$$

از طرفی می‌دانیم عدد انتهایی بازه بزرگ‌تر از عدد ابتدای بازه است. پس در بازه $[5x+1, -3x-6]$ باید داشته باشیم:

$$5x+1 < -3x-6 \Rightarrow 8x < -7 \Rightarrow x < -\frac{7}{8}$$

با توجه به شرط فوق حالت (۱) نمی‌تواند رخ دهد، چون جواب آن هیچ اشتراکی با این شرط ندارد. بنابراین جواب نهایی اشتراک جواب حالت

(۲) با شرط فوق است.

$$\begin{array}{c} \text{---} \circ \text{---} \circ \text{---} \\ | \quad | \\ -3 \quad -\frac{7}{8} \end{array} \rightarrow x \in \left(-3, -\frac{7}{8}\right) \xrightarrow{x \in \mathbb{Z}} -2, -1$$

ابتدا A_p و A_q را تشکیل می‌دهیم:

۱ ۲۹

$$\left. \begin{array}{l} A_p = \{x \mid x \in \mathbb{R}, 0 < x-1 < 2^2\} = \{x \mid x \in \mathbb{R}, 1 < x < 5\} \\ A_q = \{x \mid x \in \mathbb{R}, 0 < x-1 < 2^3\} = \{x \mid x \in \mathbb{R}, 1 < x < 9\} \end{array} \right\} \Rightarrow A_p \cap A_q = \{x \mid x \in \mathbb{R}, 1 < x < 5\} = (1, 5)$$

با توجه به مجموعه $A_n = \{m \in \mathbb{Z} \mid m \geq -n, 2^m \leq n\}$ و دو مجموعه A_p و A_q را می‌یابیم:

۳ ۳۰

$$\left\{ \begin{array}{l} n = 2: A_p = \{m \in \mathbb{Z} \mid m \geq -3, 2^m \leq 3\} \Rightarrow A_p = \{-3, -2, -1, 0, 1\} \\ n = 4: A_q = \{m \in \mathbb{Z} \mid m \geq -4, 2^m \leq 4\} \Rightarrow A_q = \{-4, -3, -2, -1, 0, 1, 2\} \end{array} \right. \Rightarrow A_p \cap A_q = \{-3, -2, -1, 0, 1\} \Rightarrow \text{عضو } 5$$

طبق فرض $-1 < a < 0$ است. برای راحتی کار عددی در این بازه مانند $a = -\frac{1}{p}$ در نظر گرفته و در عبارت داده شده قرار می‌دهیم تا

۴ ۳۱

محاسبه راحت‌تر باشد:

$$\begin{array}{c} \text{---} \bullet \text{---} \bullet \text{---} \\ | \quad | \quad | \quad | \\ -\frac{1}{2} \quad -\frac{1}{8} \quad \frac{1}{16} \quad \frac{1}{4} \end{array} \rightarrow [a, a^4] - [a^2, a^2] \stackrel{a=-\frac{1}{2}}{=} \left[-\frac{1}{2}, \frac{1}{16}\right] - \left[-\frac{1}{8}, \frac{1}{4}\right] \xrightarrow{\text{با توجه به شکل}} \left[-\frac{1}{2}, -\frac{1}{8}\right]$$

پس چون $a = -\frac{1}{p}$ و $a^2 = -\frac{1}{q}$ بود، جواب تست $[a, a^3]$ می‌شود.

با توجه به تعریف A_n داریم:

۴ ۳۲

$$\left. \begin{array}{l} A_p = \left(-\frac{2}{3}, \frac{3-2}{3}\right) = \left(-\frac{2}{3}, \frac{1}{3}\right) \\ A_q = \left(-\frac{2}{6}, \frac{6-2}{6}\right) = \left(-\frac{1}{3}, \frac{2}{3}\right) \end{array} \right\} \Rightarrow A_p \cup A_q = \left(-\frac{2}{3}, \frac{2}{3}\right)$$

$$(A_p \cup A_q) - A_r = \left(-\frac{2}{3}, \frac{2}{3}\right) - \left(-\frac{2}{3}, \frac{1}{3}\right) = \left[\frac{1}{3}, \frac{2}{3}\right]$$

ابتدا مجموعه‌های موردنظر را تشکیل می‌دهیم:

۱ ۳۳

$$A_1 = \left[-1, \frac{9-1}{9}\right] = [-1, \frac{4}{9}] \quad \text{و} \quad A_2 = \left[-2, \frac{9-2}{9}\right] = [-2, \frac{7}{9}]$$

$$A_5 = \left[-5, \frac{9-5}{9}\right] = [-5, \frac{4}{9}] \quad \text{و} \quad A_7 = \left[-7, \frac{9-7}{9}\right] = [-7, \frac{2}{9}]$$

$$A_2 \cap A_5 = \left[-2, \frac{7}{9}\right] \cap \left[-5, \frac{4}{9}\right] = \left[-2, \frac{4}{9}\right]$$

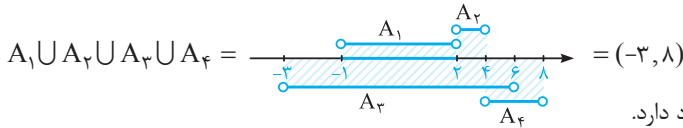
$$A_1 \cap A_7 = \left[-1, \frac{4}{9}\right] \cap \left[-7, \frac{2}{9}\right] = \left[-1, \frac{2}{9}\right]$$

$$\Rightarrow (A_2 \cap A_5) - (A_1 \cap A_7) = \left[-2, \frac{4}{9}\right] - \left[-1, \frac{2}{9}\right] = [-2, -1) \cup \left(\frac{2}{9}, \frac{4}{9}\right]$$

۳۳ ۳۴

نکته اگر a و b دو عدد صحیح باشند که $a < b$ ، آنگاه در بازه (a, b) ، $b - a - 1$ ، $b - a$ عدد صحیح، در بازه $[a, b]$ یا $b - a$ ، (a, b) عدد صحیح و در بازه $[a, b]$ ، $b - a + 1$ عدد صحیح وجود دارد.

$$A_1 = ((-1)^1 \times 1, 2(1)) = (-1, 2), A_2 = ((-1)^2 \times 2, 2(2)) = (2, 4), A_3 = ((-1)^3 \times 3, 2(3)) = (-3, 6), A_4 = ((-1)^4 \times 4, 2(4)) = (4, 8)$$



که در این بازه $8 - (-3) - 1 = 11 - 1 = 10$ عدد صحیح وجود دارد.

بررسی گزینه‌ها: ۳۵ ۴

- گزینه (۱): مجموعه اعداد اول یک‌رقمی به صورت $\{2, 3, 5, 7\}$ است که متناهی است.
 گزینه (۲): مجموعه دانش‌آموزان مدرسه شما هم دقیقاً تعداد مشخصی دارد و لذا متناهی است.
 گزینه (۳): تعداد مولکول‌های موجود در یک مول آب، 6.022×10^{23} عدد است که با این‌که عدد خیلی بزرگی می‌باشد ولی قابل شمارش بوده و لذا مجموعه موردنظر متناهی است.

سؤال دانش‌پژوه (اصغر بالازاره): آقا! آخه تو اینجا هم باید شیمی بلد باشیم! آگه ما این عدد را نمی‌دونستیم چی کار کنیم؟

کچر پاسخ: درود بر این درس فوندمنت! بپاره معلم شیمی ات. تو در همین هر بدون که تعداد مولکول‌ها همیشه په توی آب په توی هر بای متناهی. فوب شد!

گزینه (۴): تعداد دایره‌هایی که می‌توان به مرکز مبدأ مختصات رسم کرد نامتناهی است. پس همین گزینه جواب تست است.

بررسی گزینه‌ها: ۳۶ ۴

- گزینه (۱): اگر $B = \mathbb{Q}$ باشد، آنگاه مجموعه A ، تمام اعداد گویای موجود در بازه $(0, 2)$ است که نامتناهی است.
 گزینه (۲): اگر $B = \mathbb{R}$ باشد، آنگاه مجموعه A ، تمام اعداد حقیقی موجود در بازه $(0, 2)$ است که نامتناهی است.
 گزینه (۳): اگر $B = \mathbb{Q}'$ باشد، آنگاه مجموعه A ، تمام اعداد گنگ موجود در بازه $(0, 2)$ است که نامتناهی است.
 گزینه (۴): اگر $B = \mathbb{Z}$ باشد، آنگاه مجموعه A به صورت $\{1\}$ درمی‌آید که متناهی است و همین گزینه جواب تست است.

بررسی گزینه‌ها: ۳۷ ۳

- گزینه (۱): هر بازه‌ای که ابتدا و انتهایش یکسان نباشند بیانگر مجموعه‌ای نامتناهی است. اگر از این مجموعه یک یا حتی چند عدد برداریم باز هم نامتناهی باقی می‌ماند. پس گزینه (۱) بیانگر مجموعه‌ای نامتناهی است.
 گزینه (۲): اعداد صحیح مضرب ۳ و کوچک‌تر از ۲۰۰۰ به صورت مقابل هستند: $\{0, 3, 6, \dots, 1998, 1995, 1992, \dots, 0\}$ همان‌طور که می‌بینید تا منفی بی‌نهایت این مضارب ادامه دارند، پس این مجموعه نیز نامتناهی است.
 گزینه (۳): اعداد کسری با مخرج یک که صورتشان اعداد طبیعی باشند، همان اعداد طبیعی هستند (مخرج ۱ عملاً بی‌تأثیر است) پس این گزینه بیانگر اعداد طبیعی کم‌تر از ۵۰۰ می‌باشد که مجموعه‌ای متناهی است.
 گزینه (۴): طبق آموخته‌های سال نهم و با توجه به تعریف مجموعه، جنگل‌های زیبای جهان نمی‌تواند بیانگر یک مجموعه باشد و لذا این گزینه اصلاً مجموعه نیست که بخواهد مجموعه‌ای متناهی یا نامتناهی باشد.

سؤال دانش‌پژوه (اکبر شمس‌الریاضیات): آقا به نظر من، شما با طبیعت رابطه خوبی ندارید! آخه چرا جنگل مجموعه نیست!؟

کچر پاسخ: درود بر تو و علاقه‌ات به طبیعت! بپه! مشکل از پنگل نیست، مشکل اینه که عباراتی که دارای صفت هستن معمولاً مجموعه نیستن مثل اقرار بلنقر و یا قاق یا همین پنگل‌های زیبا. چون که این صفت‌ها معمولاً از نظر اقرار مختلف فرق می‌کنه. مثلاً ممکنه من پنگلی رو زیبا برونم ولی شما نرونین و چون طبق تعریف کتاب سال قبل، مجموعه‌ها بایر بیانگر اشیای کاملاً مشخص باشن، پس این عبارت بیانگر یک مجموعه نیست.

بررسی گزینه‌ها: ۳۸ ۳

- (۱) بی‌شمار خط گذرنده از یک نقطه می‌توان رسم کرد. پس این گزینه نامتناهی است.
 (۲) تمام اعداد فرد صحیح منفی جزء مجموعه فوق محسوب می‌شوند. پس این مجموعه نیز نامتناهی است.
 (۳) این مجموعه را می‌توان به صورت $\left\{ \frac{1}{1}, \frac{1}{2}, \dots, \frac{1}{99} \right\}$ نشان داد. پس این مجموعه متناهی است.
 (۴) می‌دانیم $\mathbb{Z} - \mathbb{W} = \{\dots, -2, -1, 0, 1, 2, \dots\} - \{0, 1, 2, \dots\} = \{\dots, -2, -1\}$ پس این مجموعه نیز نامتناهی است.

۳۹ ۲ بررسی گزینه‌ها:

گزینه (۱): با توجه به بازه باز (۱۰۷) باید کوچک‌ترین عضو پس از ۱ را بیابیم. اما هیچ عدد حقیقی‌ای بزرگ‌تر از عدد ۱ را نمی‌توان در این بازه یافت که بتوان ادعا کرد کوچک‌ترین عضو این بازه است. پس این بازه کوچک‌ترین عضو ندارد.

نکته بازه‌های باز، کوچک‌ترین و بزرگ‌ترین عضو ندارند.

گزینه (۲): برای اعداد بزرگ‌تر یا مساوی ۷، ۷ کوچک‌ترین عضو به حساب می‌آید و لذا این گزینه جواب تست است.
گزینه (۳): این مجموعه بزرگ‌ترین عضو دارد (عدد ۳ بزرگ‌ترین عضو آن است)، ولی کوچک‌ترین عضو ندارد.

۴۰ ۴

مجموعه A متناهی و مجموعه B نامتناهی است، زیرا:

$$A = \{1, 2, 3\}$$

$$B = \{\dots, -1, 0, 1, 2, 3\}$$

متناهی: $A \cap B$: گزینه (۱)

نامتناهی

متناهی: $B - (A \cup B) \stackrel{B \subseteq A \cup B}{=} \emptyset$: گزینه (۳)

حال با توجه به جدول درسامه گزینه‌ها را بررسی می‌کنیم:

متناهی: $A - B$: گزینه (۲)

نامتناهی

نامتناهی: $A \cup B$: گزینه (۴)

نامتناهی

پس گزینه (۴) جواب تست است.

۴۱ ۳

ابتدا اعضای مجموعه‌های A و B را به صورت ساده‌تر می‌نویسیم:

$$A = \{3, 6, 9, \dots\} \Rightarrow \text{نامتناهی}$$

$$B = \{-99, -98, \dots, 98, 99\} \Rightarrow \text{متناهی}$$

حال به کمک آموخته‌هایمان از جدول درسامه، گزینه‌ها را بررسی می‌کنیم:

نامتناهی $A - B \Rightarrow$: گزینه (۱)

نامتناهی

نامتناهی $\mathbb{Z} - A = \{\dots, 0, 1, 2, 4, 5, 7, 8, \dots\}$: گزینه (۲)

متناهی $A \cap B \Rightarrow$: گزینه (۳)

نامتناهی

نامتناهی $A \cup B \Rightarrow$: گزینه (۴)

نامتناهی

پس گزینه (۳) جواب تست است.

۴۲ ۳

ابتدا مجموعه‌های A و B را با نوشتن اعضاء مشخص می‌کنیم:

$$A = \left\{ \frac{1}{x} \mid x \in \mathbb{N} \right\} \xrightarrow{x=1,2,3,\dots} A = \left\{ \frac{1}{1}, \frac{1}{2}, \frac{1}{3}, \frac{1}{4}, \dots, \frac{1}{n}, \dots \right\}$$

$$B = \left\{ \frac{x}{8} \mid x \in \mathbb{N} \right\} \xrightarrow{x=1,2,3,\dots} B = \left\{ \frac{1}{8}, \frac{2}{8}, \frac{3}{8}, \frac{4}{8}, \frac{5}{8}, \frac{6}{8}, \frac{7}{8}, \frac{8}{8}, \frac{9}{8}, \dots \right\}$$

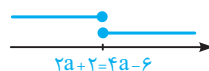
با توجه به مجموعه‌های A و B مشخص است که A و B هر دو نامتناهی‌اند. بنابراین $A \cup B$ نیز قطعاً نامتناهی است و از بین گزینه‌ها حذف می‌شود، داریم:

$$A \cap B = \left\{ \frac{1}{8}, \frac{1}{4}, \frac{1}{2}, 1 \right\} \Rightarrow \text{متناهی است.}$$

دقت کنید از $\frac{9}{8}$ به بعد دیگر هیچ‌گاه صورت کسره‌های مجموعه B، عدد ۱ نخواهد شد، لذا اشتراک A و B همان چهار عدد ۱، $\frac{1}{2}$ و $\frac{1}{4}$ است.

۴۳ ۴

اشتراک دو بازه $[-2a+2, +\infty)$ و $(-\infty, 4a-6]$ تنها در دو حالت زیر متناهی می‌شود:



حالت (۱): $A \cap B = \emptyset$

شرط: $4a-6 < 2a+2 \Rightarrow 2a < 8 \Rightarrow a < 4$

حالت (۲): $A \cap B = \{2a+2\} \stackrel{یا}{=} \{4a-6\}$

شرط: $2a+2 = 4a-6 \Rightarrow 2a = 8 \Rightarrow a = 4$

پس مجموعه جواب موردنظر برای a به صورت $a \leq 4$ است.

۲ ۴۴

ابتدا اعضای مجموعه‌های A و B را مشخص می‌کنیم:

$$A = \{1, 3, 5, 7, 9, \dots\}, B = \{2, 3, 5, 7, 11, \dots\}$$

حال گزینه‌ها را بررسی می‌کنیم:

گزینه (۱): $A - B = \{1, 3, 5, 7, 9, \dots\} - \{2, 3, 5, 7, 11, \dots\} = \{1, 9, 15, \dots\} = \{\text{اعداد فرد غیر اول}\}$ نامتناهی \Rightarrow

گزینه (۲): $B - A = \{2, 3, 5, 7, 11, \dots\} - \{1, 3, 5, 7, 9, \dots\} = \{2\}$ متناهی و غیرتهی \Rightarrow

گزینه (۳): $A \cap B = \{3, 5, 7, 11, \dots\} = \{\text{اعداد اول به غیر از ۲}\}$ نامتناهی \Rightarrow

گزینه (۴): $A - (A \cup B) = \frac{A \subseteq (A \cup B)}{\emptyset}$

پس گزینه (۲) جواب تست است.

بررسی گزینه‌ها: ۲ ۴۵

گزینه (۱): $B - A = \text{قطعاً نامتناهی}$

گزینه (۲): $A - (A \cup B) = \text{قطعاً متناهی}$ ✓
نامتناهی

گزینه (۳): $B - (A \cap B) = \text{قطعاً نامتناهی}$
نامتناهی

گزینه (۴): مجموعه $(A \cup B) \cap B$ همان مجموعه B است که طبق فرض نامتناهی است.

۲ ۴۶

چون مجموعه $\mathbb{N} - B$ ، متناهی است، نتیجه می‌گیریم که B قطعاً نامتناهی است و چون $\mathbb{N} - B$ ناتهی است می‌فهمیم که $B \neq \mathbb{N}$.
حواستان باشد B می‌تواند زیرمجموعه \mathbb{N} باشد یا نباشد! مثلاً اگر $B = \{4, 5, 6, \dots\}$ باشد $B \subseteq \mathbb{N}$ و اگر مثلاً $B = \mathbb{Z} - \{1, 2, 3, 4\}$ باشد که $B \not\subseteq \mathbb{N}$. حال گزینه‌ها را بررسی کنیم:

گزینه (۱): مجموعه $B - \mathbb{Z}$ می‌تواند متناهی یا نامتناهی باشد. به عنوان مثال اگر $B = \{3, 4, 5, \dots\}$ باشد آن‌گاه $B - \mathbb{Z}$ برابر \emptyset شده که متناهی است ولی اگر B را به صورت $B = \mathbb{Q} - \{1, 2\}$ فرض کنیم (Q: اعداد گویا) در این صورت $B - \mathbb{Z}$ نامتناهی است!

گزینه (۲): چون $\mathbb{N} - B$ متناهی است، پس حتماً B شامل بیشتر اعداد طبیعی است که وقتی آن را از \mathbb{N} کسر می‌کنیم، فقط تعداد محدودی عدد در \mathbb{N} باقی می‌ماند. از طرفی چون در \mathbb{Z} تمام اعداد \mathbb{N} حضور دارند پس $B \cap \mathbb{Z}$ شامل بیشتر اعداد طبیعی بوده و لذا قطعاً نامتناهی است.

گزینه (۳): $B - \mathbb{N}$ می‌تواند متناهی یا نامتناهی باشد. مثلاً اگر $B = \{3, 4, \dots\}$ فرض شود، $B - \mathbb{N}$ برابر \emptyset شده و متناهی است ولی اگر $B = \mathbb{Q} - \{1, 2, 3\}$ باشد، $B - \mathbb{N}$ نامتناهی است!

گزینه (۴): طبق فرض $\mathbb{N} - B$ ، متناهی است. از طرفی می‌دانیم اشتراک یک مجموعه متناهی با یک مجموعه نامتناهی، قطعاً متناهی است. پس $(\mathbb{N} - B) \cap \mathbb{Z}$ قطعاً متناهی است.

بررسی گزینه‌ها: ۳ ۴۷

گزینه (۱): A و B نامتناهی هستند و داریم:

$$A \cup B = \{2, 3, 4, 5, 6, 7, \dots\} \cup \{2, 3, 5, 7, 11, \dots\} = \{2, 3, 4, 5, 6, 7, \dots\}$$

این مجموعه برابر \mathbb{N} نیست. زیرا مثلاً $1 \notin A \cup B$.

گزینه (۲): A مجموعه‌ای متناهی است، پس این گزینه نمی‌تواند جواب باشد.

گزینه (۳): اعداد طبیعی مضرب ۲ و ۳ همان اعداد طبیعی مضرب ۶ هستند.

گزینه (۴): $A \cup B = \mathbb{N}$ و A نامتناهی $\Rightarrow B$ نامتناهی

گزینه (۴): A مجموعه‌ای متناهی است، پس این گزینه نمی‌تواند جواب باشد.

بررسی گزینه‌ها: ۲ ۴۸

گزینه (۱): اگر A متناهی باشد، لزوماً هر زیرمجموعه آن هم قطعاً متناهی خواهد بود. پس این گزینه درست است.

گزینه (۲): اگر A نامتناهی باشد، آن‌گاه B می‌تواند متناهی یا نامتناهی باشد. مثلاً اگر A مجموعه اعداد طبیعی باشد، B می‌تواند مجموعه متناهی $B = \{1\}$ یا مجموعه نامتناهی $B = \{x \mid x \in \mathbb{N}, x \geq 3\}$ باشد.

گزینه (۳): واضح است وقتی زیرمجموعه یک مجموعه نامتناهی است، پس خود آن مجموعه هم قطعاً نامتناهی خواهد بود. پس این گزینه درست است.

گزینه (۴): فرض کنید B مجموعه متناهی مانند $\{1\}$ باشد چون $B \subseteq A$ است، مجموعه A را می‌توان هم به صورت متناهی مانند $A = \{1, 2\}$ در نظر گرفت و هم به صورت نامتناهی مانند $A = \mathbb{N}$ در نظر گرفت. پس این گزینه هم درست است.

گزینه (۱): اگر A متناهی باشد و B و C دو مجموعه دلخواه باشد:

$$A - (B - C) = \text{قطعاً متناهی} \quad \times$$

متناهی یا نامتناهی

گزینه (۲): اگر A نامتناهی، B متناهی و C نامتناهی باشد، در این حالت $B - C$ قطعاً متناهی خواهد بود و در نتیجه داریم:

$$A - (B - C) = \text{قطعاً نامتناهی} \quad \checkmark$$

گزینه (۳): اگر A, B, C هر سه نامتناهی باشند، در این صورت $B - C$ می‌تواند متناهی یا نامتناهی باشد و لذا داریم:

$$A - (B - C) = \begin{cases} \text{قطعاً نامتناهی} = A - (B - C) \Rightarrow \text{متناهی } B - C: \text{ اگر} \\ \text{متناهی یا نامتناهی} = A - (B - C) \Rightarrow \text{نامتناهی } B - C: \text{ اگر} \end{cases} \quad \times$$

پس نمی‌توان گفت قطعاً نامتناهی است. \Rightarrow

گزینه (۴): اگر A نامتناهی و B نامتناهی و C متناهی باشد، در این $B - C$ حتماً نامتناهی است و داریم:

$$A - (B - C) = \text{قطعاً نامتناهی} \quad \times$$

$$\text{متناهی یا نامتناهی}$$

طبق فرض A مجموعه‌ای دلخواه و نامشخص است، یعنی می‌تواند متناهی یا نامتناهی باشد ولی B متناهی و C نامتناهی است. برای راحتی

کار کلمه متناهی را با $(م)$ و کلمه نامتناهی را با $(ن)$ نمایش می‌دهیم. حال گزینه‌ها را بررسی می‌کنیم:

گزینه (۱): $B \cup (A \cap C) = \text{قطعاً متناهی} \Rightarrow$ اگر A متناهی باشد.

$$B \cup (A \cap C)$$

متناهی یا نامتناهی $B \cup (A \cap C) = \text{قطعاً نامتناهی} \Rightarrow$ اگر A نامتناهی باشد.

$$B \cup (A \cap C)$$

پس این گزینه با توجه به نوع مجموعه A می‌تواند متناهی و یا نامتناهی باشد و غلط است.

گزینه (۲):

قطعاً نامتناهی $(B \cap A) \cup (C - A) = \text{قطعاً نامتناهی} \Rightarrow$ اگر A متناهی باشد.

$$(B \cap A) \cup (C - A)$$

متناهی یا نامتناهی $(B \cap A) \cup (C - A) = \text{قطعاً نامتناهی} \Rightarrow$ اگر A نامتناهی باشد.

$$(B \cap A) \cup (C - A)$$

پس این گزینه هم بستگی به نوع مجموعه A دارد و غلط است.

گزینه (۳):

قطعاً متناهی $\hat{A} - (B \cap C) = \text{قطعاً متناهی} \Rightarrow$ اگر A متناهی باشد.

$$\hat{A} - (B \cap C)$$

قطعاً نامتناهی $\hat{A} - (B \cap C) = \text{قطعاً نامتناهی} \Rightarrow$ اگر A نامتناهی باشد.

$$\hat{A} - (B \cap C)$$

پس این گزینه هم غلط است.

گزینه (۴):

قطعاً متناهی $(B \cap C) - (C \cup A) = \text{قطعاً متناهی} \Rightarrow$ اگر A متناهی باشد.

$$(B \cap C) - (C \cup A)$$

\checkmark قطعاً متناهی \Rightarrow

قطعاً متناهی $(B \cap C) - (C \cup A) = \text{قطعاً متناهی} \Rightarrow$ اگر A نامتناهی باشد.

$$(B \cap C) - (C \cup A)$$

با توجه به صورت تست داریم:

$$U = \{1, 2, 3, 4, \dots, 8\} \Rightarrow A' = U - A = \{4, 5, 6, 7, 8\} \Rightarrow 5 \text{ عضو دارد. } A'$$

$$2 \times 1 < 7, 2 \times 2 < 7, 2 \times 3 < 7 \Rightarrow A = \{1, 2, 3\}$$

$$A \cup B = \{1, 2, 3, 4\} \cup \{2, 4, 6, 8\} = \{1, 2, 3, 4, 6, 8\}, U = \{1, 2, 3, 4, 5, 6, 7, 8, 9\} \text{ مجموعه مرجع:}$$

مجموعه $(A \cup B)'$ شامل عضوایی از مجموعه مرجع U است که آن‌ها در مجموعه $A \cup B$ حضور ندارند. پس داریم:

$$(A \cup B)' = \{5, 7, 9\}$$

از طرفی $C' = \{3, 4, 5, 6\}$ است. پس مجموعه C برابر می‌شود با:

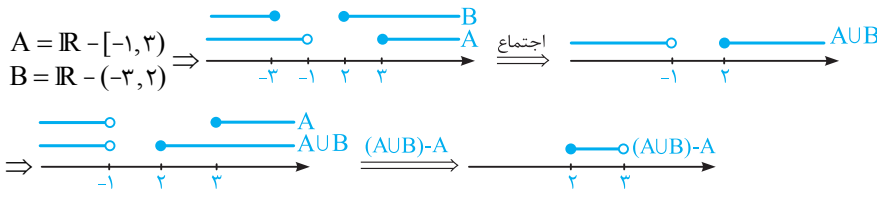
$$C = (C')' = \{1, 2, 7, 8, 9\}$$

$$(A \cup B)' \cap C = \{5, 7, 9\} \cap \{1, 2, 7, 8, 9\} = \{7, 9\}$$

بنابراین:

۲ ۵۳

روش اول: ابتدا با استفاده از مجموعه $A' = [-1, 3]$ و $B' = (-3, 2)$ ، مجموعه‌های A و B را می‌یابیم:



پس مجموعه مورد نظر برابر $[2, 3]$ بوده که شامل یک عدد صحیح ۲ است.

روش دوم: با استفاده از فرمول $A' \cap B' = (A \cup B)'$ داریم:

$$A' \cap B' = [-1, 3] \cap (-3, 2) = [-1, 2) = (A \cup B)' \Rightarrow A \cup B = \mathbb{R} - [-1, 2)$$

از طرفی با توجه به فرمول $A - B = A \cap B'$ داریم:

$$(A \cup B) - A = (A \cup B) \cap A' = (\mathbb{R} - [-1, 2)) \cap [-1, 3]: \text{جواب: } [2, 3]$$

۴ ۵۴

$$A' = U - A = \underbrace{\{1, 2, 3, \dots, n-1, n\}}_U - \underbrace{\{5, 6, 7, \dots, n-1, n\}}_A = \{1, 2, 3, 4\} \Rightarrow \text{عضو دارد. ۴}$$

سؤال دانش‌پژوه (ملیکا پورفلاح): بیخشید A مگه $\{n, n-1, \dots, 5\}$ نبود؟

کچر پاسخ: بیه! مگه A ای که ما نوشتیم همون نیست؟! آگه فوب دقت کنی، من فقط ترتیب اعداد داخل مجموعه رو عوض کردم. یعنی A رو از ته نوشتم. همین.

۳ ۵۵

$$\overline{A \cup (A' \cap B)} = \overline{(A \cup A') \cap (A \cup B)} = \overline{U \cap (A \cup B)} \stackrel{A \cup B \subseteq U}{=} \overline{A \cup B}$$

برای حل و ساده‌سازی عبارت داده‌شده، باید یک عملیات که شبیه فاکتورگیری است را بلد باشید. با هم ببینیم:

۳ ۵۶

$$(A \cap B') \cup (B \cap A) \stackrel{A \cap B = B \cap A}{=} (A \cap B') \cup (A \cap B) = A \cap (B' \cup B) = A$$

ابتدا علامت «-» را به « \cap » تبدیل می‌کنیم. داریم:

۲ ۵۷

$$(A \cap B) - A = (A \cap B) \cap A' = \underbrace{A \cap A'}_{\emptyset} \cap B = \emptyset \cap B = \emptyset$$

۲ ۵۸

$$(B - A) \cup A = (B \cap A') \cup A = (B \cup A) \cap (A' \cup A) = (B \cup A) \cap U \stackrel{B \cup A \subseteq U}{=} B \cup A \stackrel{A \subseteq B}{=} B$$

ابتدا مجموعه $(B - A)' - A$ را کمی ساده کرده و سپس متمم آن را به دست می‌آوریم:

۱ ۵۹

$$(B - A)' - A = (B \cap A')' \cap A' = (B' \cup A) \cap A' = (B' \cap A') \cup (A \cap A') \\ \stackrel{A \cap A' = \emptyset}{=} (B' \cap A') \cup \emptyset = (B' \cap A') = (B \cup A)'$$

بنابراین مجموعه $(B - A)' - A$ برابر با $(B \cup A)'$ است و متمم آن، مجموعه $A \cup B$ است.

با توجه به آن که اگر $A \subseteq B$ باشد، آن‌گاه $B' \subseteq A'$ است، گزینه‌ها را بررسی می‌کنیم:

۴ ۶۰

(۱) گزینه $B' \subseteq A' : B' - A = B' \cap A' = B'$ ✓ (۲) گزینه $B' \subseteq A' : A' - B = A' \cap B' = B'$ ✓

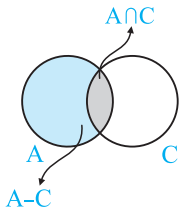
(۳) گزینه $A \subseteq B : A - B' = A \cap B = A$ ✓ (۴) گزینه $A \subseteq B : B - A' = B \cap A = A \neq B$

۱ ۶۱

$$N' = \mathbb{Z} - \mathbb{N} = \{\dots, -2, -1, 0, 1, 2, \dots\} - \{1, 2, \dots\} = \{\dots, -2, -1, 0\}$$

$$W' = \mathbb{Z} - \mathbb{W} = \{\dots, -2, -1, 0, 1, 2, \dots\} - \{0, 1, 2, \dots\} = \{\dots, -2, -1\}$$

$$\Rightarrow N' - W' = \{\dots, -2, -1, 0\} - \{\dots, -2, -1\} = \{0\}$$



چون $A \subseteq B$ است پس $A \cap B = A$ بوده و داریم:

$$\underbrace{(A \cap (B \cap C'))}_A \cap \underbrace{(A \cap B \cap C)'}_A = (A \cap C') \cap (A \cap C)'$$

$$= (A - C) - (A \cap C) \stackrel{\text{با توجه به نمودار وون}}{=} A - C = A \cap C'$$

۴ ۶۲

$$(A' \cap B')' \cap (A' \cap C)' \stackrel{(A \cap B)' = A' \cup B'}{=} ((A')' \cup (B')) \cap ((A')' \cup (C')) = (A \cup B) \cap (A \cup C)$$

$$\frac{A \subseteq B \Rightarrow A \cup B = B}{A \subseteq C \Rightarrow A \cup C = C} B \cap C \stackrel{B \subseteq C}{=} B$$

۲ ۶۳

سؤال کمی سخت است. باید به خوبی از خواص اشتراک و اجتماع استفاده نماییم:

۲ ۶۴

$$[A \cap (A' \cup B)] \cup [B \cap (A' \cup B')] = [(\underbrace{A \cap A'}_{\emptyset}) \cup (A \cap B)] \cup [(B \cap A') \cup (\underbrace{B \cap B'}_{\emptyset})]$$

$$= [\emptyset \cup (A \cap B)] \cup [(B \cap A') \cup \emptyset] = (A \cap B) \cup (B \cap A') = (\underbrace{B \cap A}_{\emptyset}) \cup (\underbrace{B \cap A'}_B) = B \cap (A \cup A') = B$$

ابتدا مجموعه‌های $(B \cap A) \cup (B - A)$ و $A \cup (A \cap B)$ را ساده می‌کنیم:

۱ ۶۵

$$\begin{cases} A \cup (A \cap B) \stackrel{\text{قانون جذب}}{=} A & (*) \\ (B \cap A) \cup (B - A) \stackrel{B - A = B \cap A'}{=} (\underbrace{B \cap A}_{\emptyset}) \cup (\underbrace{B \cap A'}_B) = B \cap (A \cup A') = B \cap U = B & (**) \end{cases}$$

بنابراین داریم:

$$[A \cup (A \cap B)]' \cap [(B \cap A) \cup (B - A)] \stackrel{(*)}{=} A' \cap B = A' - B' \stackrel{(**)}{}$$

سؤال دانش‌پژوه (رضا کشتکار): آقا چه طور علامت « \cap » در $A' \cap B = A' - B'$ به « $-$ » تبدیل شد؟

کج پاسخ: درود بر تمام مثبت‌های جهان! ببین می‌دونیم $A \cap B' = A - (B')' = A - B$ یعنی آگه « \cap » بفوار به « $-$ » تبدیل بشه، یک علامت « $-$ » باید بالای عبارت بعد از منفی بزاریم. پس $A' \cap B = A' - B'$.

ابتدا متمم مجموعه داده شده را به دست می‌آوریم، سپس با اعمال قوانین جبر مجموعه‌ها به گزینه‌هایی که برابر با آن هستند، می‌رسیم:

۲ ۶۶

$$[C \cup A' \cup B']' = C' \cap A \cap B = A \cap B \cap C'$$

گزینه (۴) برابر با مجموعه داده شده است. $\Rightarrow A \cap B \cap C' = (A \cap B) \cap C' = (A \cap B) - C$

گزینه (۳) برابر با مجموعه داده شده است. $\Rightarrow A \cap B \cap C' = A \cap (B \cap C') = A \cap (B - C)$

گزینه (۱) برابر با مجموعه داده شده است. $\Rightarrow A \cap (B \cap C') = A \cap (B - C) \stackrel{\text{خاصیت توزیع پذیری اشتراک بر روی تفاضل}}{=} (A \cap B) - (A \cap C)$

بنابراین تنها مجموعه گزینه (۲) با مجموعه داده شده برابر نیست.

۲ ۶۷

با توجه به قانون دمورگان داریم:

$$(A \cap B)' = A' \cup B' = \{۴, ۶, ۸, ۱۰, ۱۲\} \cup \{۴, ۵, ۶, ۷, ۸\} = \{۴, ۵, ۶, ۷, ۸, ۱۰, ۱۲\}$$

پس $(A \cap B)'$ ، ۷ عضو دارد.

۴ ۶۸

بررسی گزینه‌ها:

گزینه (۱): نادرست است. مثلاً اگر $A = \{1\}$ باشد، آن‌گاه $A' = \{۲, ۳, ۴, \dots\}$ می‌شود که نامتناهی است.

گزینه (۲): نادرست است. مثلاً اگر A را، مجموعه اعداد زوج طبیعی بگیریم، آن‌گاه A' ، مجموعه اعداد فرد طبیعی می‌شود که نامتناهی است.

گزینه (۳): نادرست است. مثلاً اگر A ، مجموعه اعداد طبیعی بزرگ‌تر از ۲ فرض شود (یعنی: $A = \{x \mid x \in \mathbb{N}, x > ۲\} = \{۳, ۴, ۵, \dots\}$).

آن‌گاه $A' = \{1, ۲\}$ می‌شود که متناهی است.

گزینه (۴): درست است، اگر A متناهی باشد، آن‌گاه A' حتماً نامتناهی خواهد بود.

۴ ۶۹

می‌دانیم اگر $A \subseteq B$ باشد، آن‌گاه $A \cap B = A$ می‌شود و چون A نامتناهی است پس مجموعه $A \cap B$ نیز نامتناهی خواهد بود.

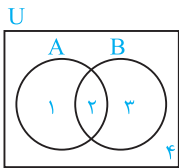
۲ ۷۰

طبق فرض A متناهی است و چون A زیرمجموعه اعداد طبیعی است، پس A' الزاماً نامتناهی است. در حالی که از نامتناهی بودن B نمی‌توان

نتیجه گرفت که B' حتماً متناهی است؛ به عنوان مثال اگر B مجموعه اعداد زوج باشد، متمم آن یعنی B' مجموعه اعداد فرد شده که نامتناهی

است. بنابراین چون A متناهی است اشتراکش با مجموعه B' که متناهی یا نامتناهی است حتماً متناهی خواهد بود.

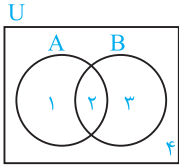
۴ ۷۱ با توجه به نمودار ون در شکل مقابل، $B' = \{1, 4\}$ است. بنابراین:



$$(A \cap B') - (B - A) = (\{1, 2\} \cap \{1, 4\}) - (\{2, 3\} - \{1, 2\})$$

$$= \{1\} - \{3\} = \{1\} \xrightarrow{\text{با توجه به شکل}} A - B$$

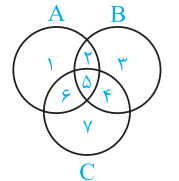
۱ ۷۲ مطابق شکل داریم:



$$(A - B)' \cap (A \cup B) \cap A' = (\{1, 2\} - \{2, 3\})' \cap (\{1, 2\} \cup \{2, 3\}) \cap \{3, 4\}$$

$$= (\{1\})' \cap \{1, 2, 3\} \cap \{3, 4\} = \{2, 3, 4\} \cap \{1, 2, 3\} \cap \{3, 4\} = \{3\} \xrightarrow{\text{با توجه به نمودار ون}} B - A$$

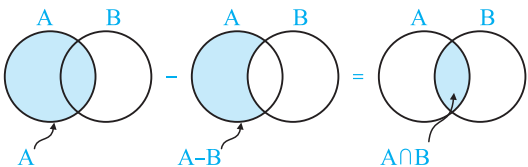
۲ ۷۳ با توجه به نمودار ون مقابل داریم:



$$(C \cap A \cap B) \cup (A - C) \cup (A - B) = \{5\} \cup \{1, 2\} \cup \{1, 6\}$$

$$= \{1, 2, 5, 6\} \xrightarrow{\text{با توجه به شکل}} A$$

۴ ۷۴ راه اول: با توجه به نمودار ون زیر داریم:



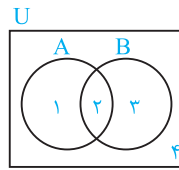
$$\Rightarrow A - (A - B) = A \cap B \quad (*)$$

بنابراین:

$$[A - (A - B)] \cup (A \cap B)' \xrightarrow{(*)} \underbrace{(A \cap B)}_X \cup \underbrace{(A \cap B)'}_{X'} \xrightarrow{X \cup X' = U} U$$

که متمم مجموعه U برابر \emptyset می باشد.

راه دوم: با توجه به شکل مقابل داریم:



$$[A - (A - B)] \cup (A \cap B)' = [\{1, 2\} - \{2\}] \cup (\{2\})' = \{1\} \cup \{1, 3, 4\} = \{1, 2, 3, 4\} = U$$

که متمم آن برابر $U' = \emptyset$ می شود.

۳ ۷۵ ابتدا یک نمودار ون با مجموعه های A و B در حالت کلی رسم می کنیم. سپس با توجه به عضوهای مجموعه ها،

مجموعه زیر را ساده می کنیم:



$$\underbrace{(A \cap (A' \cup B))}_{(*)} \cup \underbrace{(B \cap (A' \cup B'))}_{(**)}$$

$$(*) : \{1, 2\} \cap (\{3, 4\} \cup \{2, 3\}) = \{1, 2\} \cap \{2, 3, 4\} = \{2\}$$

$$\Rightarrow (*) \cup (**) = \{2\} \cup \{3\} = \{2, 3\}$$

$$(**) : \{3, 2\} \cap (\{3, 4\} \cup \{1, 4\}) = \{3, 2\} \cap \{1, 3, 4\} = \{3\}$$

که مجموعه $\{2, 3\}$ با توجه به نمودار ون همان مجموعه B است.

$$n(A \cup B) = n(A) + n(B) - n(A \cap B) \Rightarrow n(A \cup B) = 14 + 17 - 5 = 26$$

۲ ۷۶

$$(۱) \quad n(A') = 25 \Rightarrow n(U) - n(A) = 25 \xrightarrow{n(U)=30} 30 - n(A) = 25 \Rightarrow n(A) = 5 \quad (*)$$

۱ ۷۷

$$(۲) \quad n(A \cup B) = n(A) + n(B) - n(A \cap B) \xrightarrow{(*)} 20 = 5 + n(B) - 2 \Rightarrow n(B) = 17$$

بنابراین $n(B')$ برابر می شود با:

$$n(B') = n(U) - n(B) \Rightarrow n(B') = 30 - 17 = 13$$

۳ ۷۸ بررسی گزینه ها:

گزینه (۱): ابتدا $n(A)$ را یافته و سپس از فرمول زیر، $n(A \cap B)$ را به دست می آوریم:

$$n(A) = n(U) - n(A') \xrightarrow[n(A')=14]{n(U)=20} n(A) = 20 - 14 = 6$$

$$n(A \cup B) = n(A) + n(B) - n(A \cap B) \Rightarrow 98 = 60 + 50 - n(A \cap B) \Rightarrow n(A \cap B) = 110 - 98 = 12$$

گزینه (۲):

$$n(A \cap B') = n(A - B) = n(A) - n(A \cap B) = 60 - 12 = 48$$

گزینه (۳):

$$n(A' \cap B') = n((A \cup B)') = n(U) - n(A \cup B) = 200 - 98 = 102$$

گزینه (۴):

$$n(A' \cup B') = n((A \cap B)') = n(U) - n(A \cap B) = 200 - 12 = 188$$