




۱ در هر ردیف، دسته‌ها را بشمار و دسته‌ی کم‌تر را رنگ کن.

۲ عدد هر دسته را بنویس و دور دسته‌ی کم‌تر خط بکش.



مانند نمونه، عدد هر دسته را بنویس و علامت کم تر (<) بگذار و آن ها را از هر دو طرف بخوان. (مثال: سه کم تر


از چهار-چهار بیش تر از سه)




۳



۴



.....



.....



.....



.....




.....



.....



.....



.....



.....


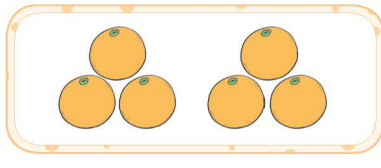








.....





۴ عدد هر دسته را بنویس و علامت = یا < بگذار.



۵ بین دو عدد زیر علامت = یا < بگذار و بخوان.

۳ ○ ۳

۱ ○ ۲

۶ ○ ۶

۵ ○ ۷

۸ ○ ۸

۷ ○ ۸


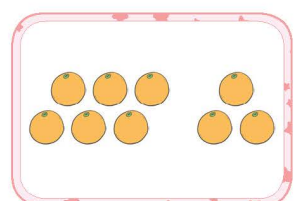


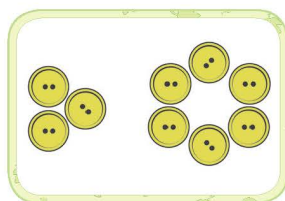

۴ ○ ۴

۶ ○ ۸





۶ عدد هر دسته را بشمار و بگو.



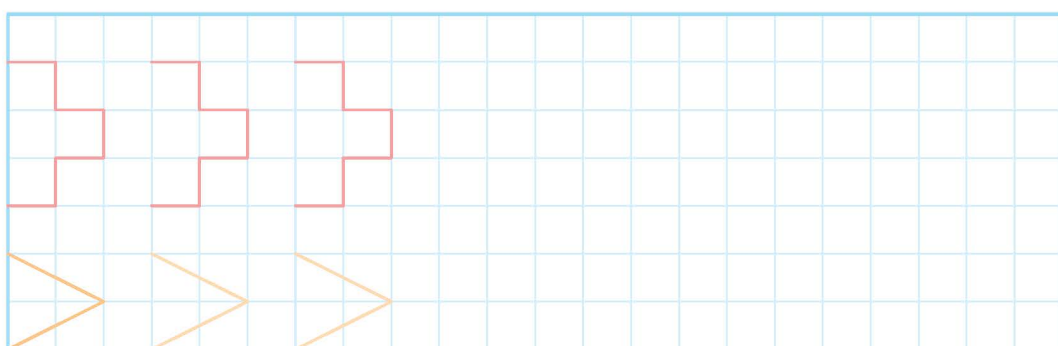
۷ با توجه به جهت فلش، عدد نه را بنویس.



۸ از عدد صفر تا ۹ را به ترتیب بنویس.

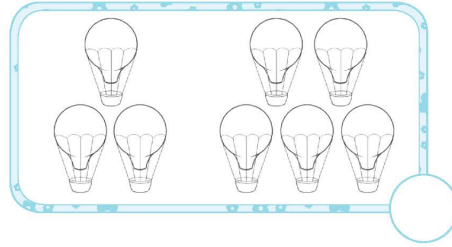

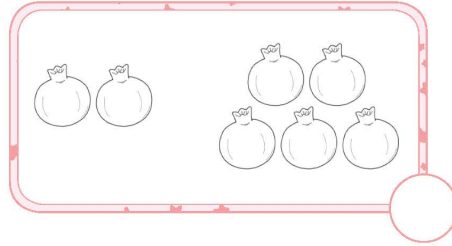
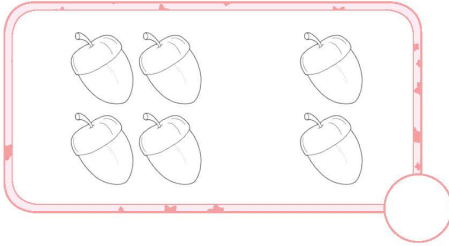






۹ مانند نمونه ادامه بده.





۱۰ عدد هر دسته را بنویس و دسته‌ی بیش‌تر را رنگ کن.



۱۱ جدول شگفت‌انگیز اعداد را کامل کن.

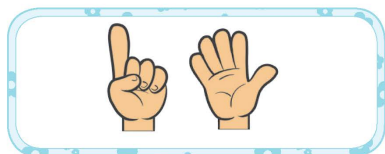

	۱	۲	۴	۳	۷	۵	۹	۸
۴	۵	۹	۸	۶	۲	۳		۱
۳	۷	۸		۱	۵	۶	۴	۲
۵	۲		۶	۸	۴	۱	۳	۹
۹	۶	۱	۷	۲	۳	۸	۵	
۸	۴	۳	۵		۱	۲	۶	۷
۲		۶	۱	۷	۹	۴	۸	۵
۱	۹	۴	۳	۵		۷	۲	۶
۷	۸	۵	۲	۴	۶		۱	۳



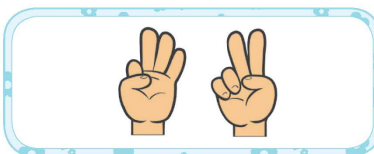


مانند نمونه، عدد هر دسته را بنویس و علامت بیشتر (>) بگذار و آن‌ها را از دو طرف بخوان. (مثال: ۶ بیشتر


از ۵-۵ کم‌تر از ۶)




۶



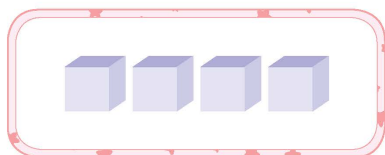
۵



.....



.....




.....



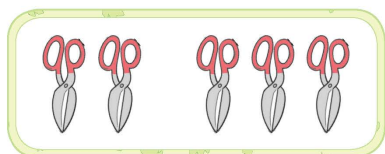
.....



.....



.....




.....



.....

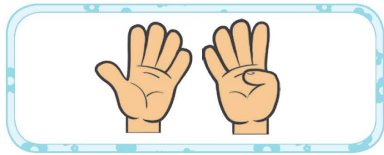
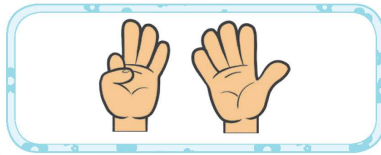




.....







.....



مانند نمونه، عدد هر دسته را بنویس و علامت <، = یا > بگذار و هر عبارت را از دو طرف بخوان.



	
۹	۸
>	

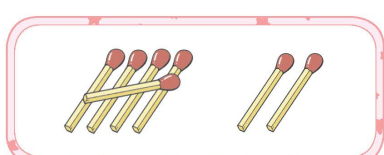
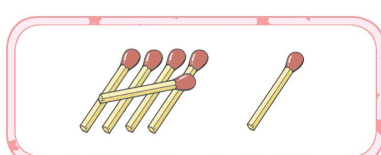
	
.....
○	

	
.....
○	

	
.....
○	

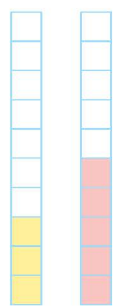
	
.....
○	

	
.....
○	

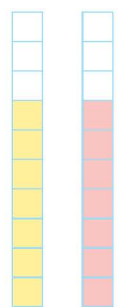
	
.....
○	



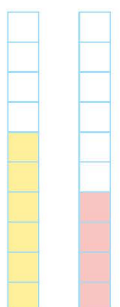
۱۴ مانند نمونه انجام بده.



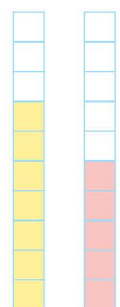
$3 < 5$




$7 = \bigcirc$




$6 > \bigcirc$




$\bigcirc > 5$




$5 < 8$




$0 < \bigcirc$




$4 > \bigcirc$



$5 = \bigcirc$




$\bigcirc > \bigcirc$



$\bigcirc < \bigcirc$

۱۵ در جای خالی عدد مناسب بنویس.



$\bigcirc = 6$

$7 < \bigcirc$

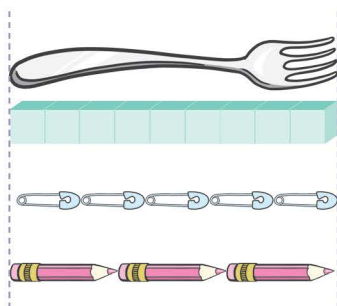
$5 > \bigcirc$

$2 > \bigcirc$

$3 = \bigcirc$

$4 < \bigcirc$

۱۶ طول چنگال چندتا شکل کوچک است؟ کنار آن بنویس.




 تا

 تا

 تا

۱۷ در جاهای خالی عددهایی بنویس که از عدد ۶ کم تر باشند.



۱۸ جدول شگفت انگیز اعداد را کامل کن.

۹	۶	۵	۲	۱	۷	۴	۸	
	۳	۴	۶	۸	۵	۷	۱	۹
۱		۷	۹	۳	۴	۲	۶	۵
۴	۱		۷	۹	۸	۶	۵	۲
۸	۵	۶		۲	۱	۹	۳	۷
۷	۹	۲	۵		۳	۸	۴	۱
۳	۷	۹	۱	۴		۵	۲	۸
۵	۴	۸	۳	۷	۲		۹	۶
۶	۲	۱		۵	۹	۳	۷	۴

۱۹ مسئله‌ی زیر را حل کن.



سینا و سمانه هر کدام ۲ شکلات دارند. برادر سینا ۳ تا از او و

برادر سمانه ۴ تا از او بیش‌تر دارد.

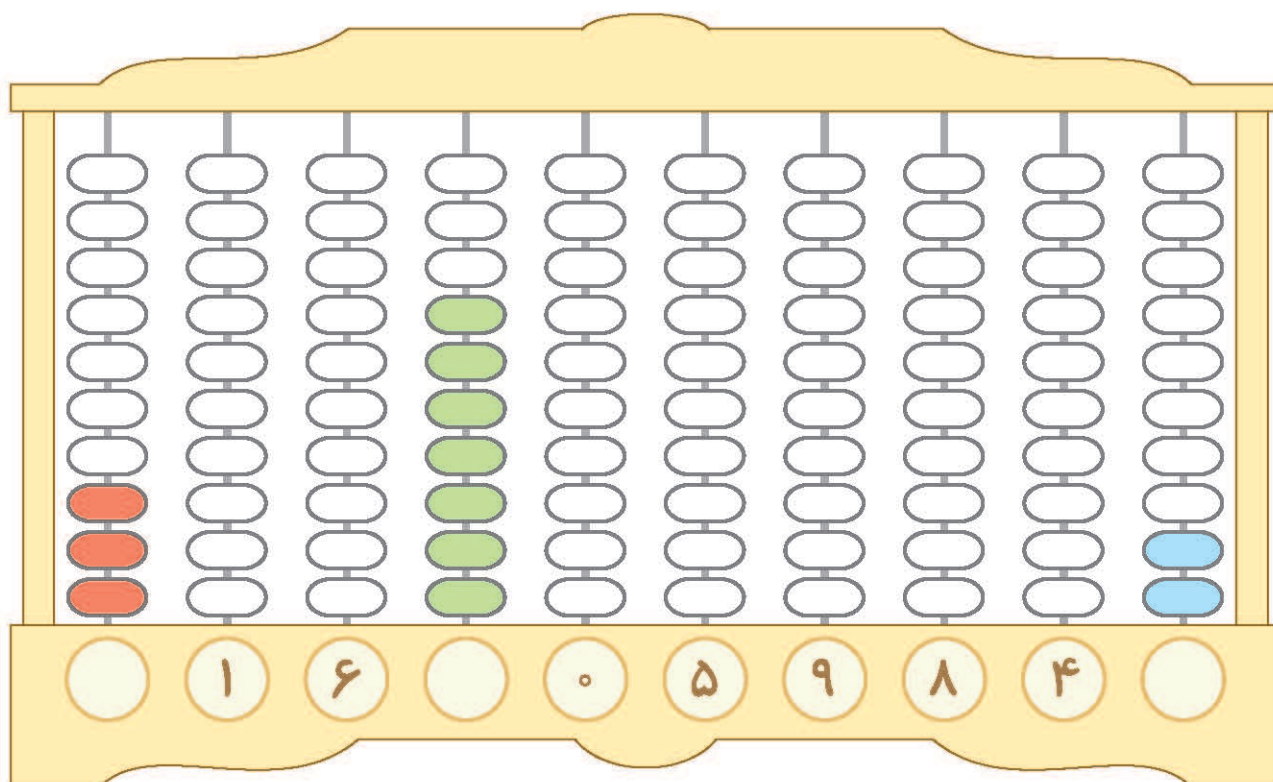
برادر سینا شکلات بیش‌تری دارد یا برادر سمانه؟

۲۰ جاهای خالی را با اعداد مناسب پر کن.






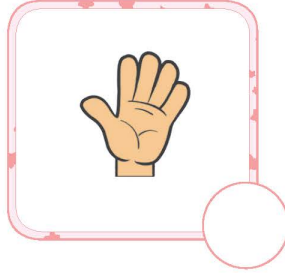
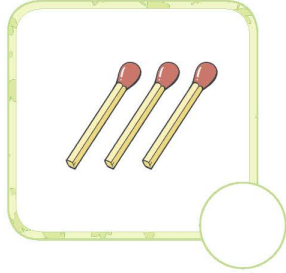

۲۱ به تعداد عدد نوشته شده از مهره‌ها رنگ کن. عدد مهره‌های رنگ شده را بنویس.




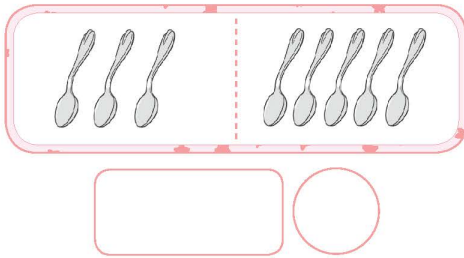
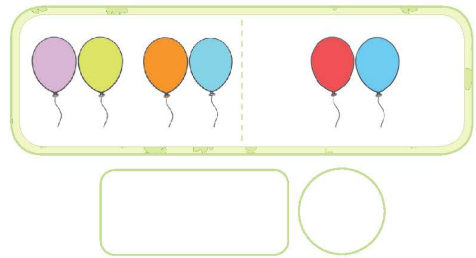
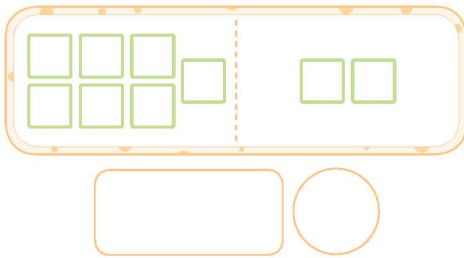
۲۲ با توجه به شکل بالا، به سؤال‌های زیر پاسخ بده.

- کدام عدد از همه بیشتر است؟
- از بین عددهای بالا، چند عدد وجود دارد که از ۹ کمتر است؟
- از بین عددهای بالا، چند عدد وجود دارد که از ۵ بیشتر است؟

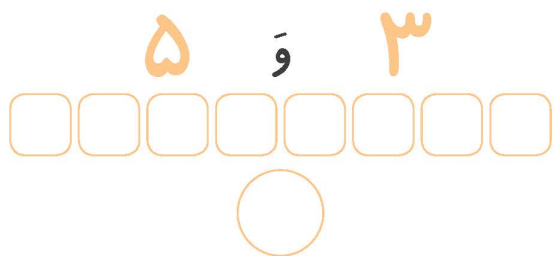
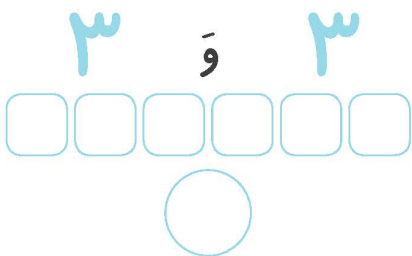
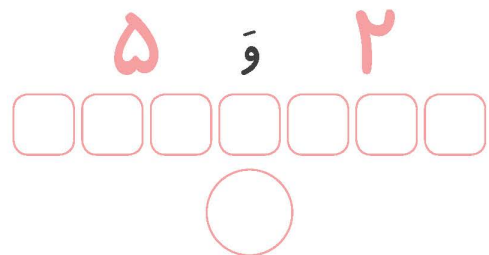

۱ اگر از هر دسته ۲ تا برداریم، چندتا می ماند؟ بنویس.



۲ شکل های هر دو دسته روی هم چندتا می شود؟ با چوب خط نشان بده و عدد آن را بنویس.



۳ با توجه به عددها، شکل را با دو رنگ، رنگ آمیزی کن. شکل ها با هم چندتا می شود؟ بنویس.





خودسنجی ۳

۴ عدد هر دسته را بنویس و دسته‌ای را که شکل بیش‌تری دارد، رنگ بزن.

.....

.....

.....

.....

۵ در سمت راست آن قدر شکل بکش که عدد هر دو دسته برابر شود.

۶ عدد هر دسته را بنویس و دسته‌ای را که شکل کم‌تری دارد، رنگ بزن.

.....

.....

.....

.....



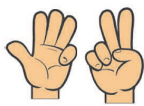
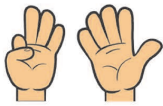
۷ عدد هر دسته را بنویس و علامت مناسب را انتخاب کن.



..... < = >



..... < = >



..... < = >



..... < = >

۸ از صفر تا ۹ را به ترتیب بنویس.

۹ در جای خالی علامت < = > قرار بده.

۹ ○ ۹

۸ ○ ۵

۸ ○ ۷

۶ ○ ۹

۷ ○ ۹

○ ○

۱۰ نیمه‌ی دیگر شکل‌های زیر را رنگ کن.



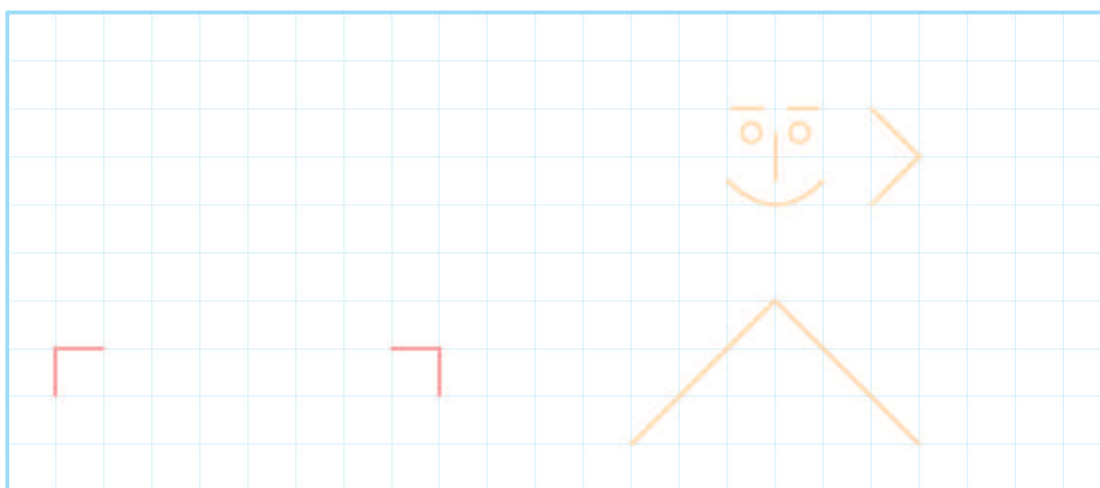



آزمون عملکردی ۲

هدف کلی: کار با خط کش

وسایل مورد نیاز: مداد رنگی - مداد - خط کش

شکل کوچک بالا را با خط کش در قسمت پایین بکش و رنگ کن.



درجات			نشانه‌ها و انتظارات
نیاز به تلاش	تا حدودی	کاملاً	
<input type="checkbox"/>	<input type="checkbox"/>	<input type="checkbox"/>	شکل را به درستی رسم کرده است. ۱
<input type="checkbox"/>	<input type="checkbox"/>	<input type="checkbox"/>	از خط کش استفاده کرده است. ۲
<input type="checkbox"/>	<input type="checkbox"/>	<input type="checkbox"/>	تمیز و زیبا رنگ کرده است. ۳

ارائه‌ی بازخورد:

