



مقدمه

هندسه در بین شاخه‌های مختلف ریاضی از جایگاه والایی برخوردار است. از نظر تاریخی این علم را به اقلیدس، ریاضی‌دان یونانی نسبت می‌دهند ولی سال‌ها قبل از اقلیدس وجود داشته است و مورد استفاده قرار گرفته و در واقع اقلیدس اولین کسی بود که هندسه را مدون کرد.

در هندسه اقلیدسی تعداد بسیار زیادی مسئله و قضیه وجود دارد که حاصل سال‌ها تلاش و تفکر اندیشمندان بسیار زیادی بوده و اکنون گنجینه‌ای عظیم از تفکر بشری به دست ما رسیده ولی افسوس که این نسل شتابزده فرصت استفاده کافی از آن‌را ندارند. از آنجا که مخاطب این کتاب دانش‌آموزان رشته ریاضی بوده و غالباً قصد ادامه تحصیل در رشته‌های مهندسی را دارند، بد نیست اشاره کنیم به واژه مهندسی، به معنای شخصی است که هندسه می‌داند و این خود بیانگر اهمیت این درس در رشته‌های مهندسی و علوم مرتبط می‌باشد متأسفانه در کتاب‌های درسی جدید از تعمق هندسه کاسته شده و کتاب‌ها به صورت سطحی و گذرا مفاهیم هندسه را بررسی می‌کنند و این باعث می‌شود تا دانش‌آموزان با قدرت و زیبایی استدلال در هندسه، آن‌چنان که شایسته این علم است آشنا نشوند. در این کتاب که با هدف جمع‌بندی مطالب هر سه کتاب هندسه در ماه‌های نزدیک به کنکور تألیف شده، سعی شده تمام مطالب هندسه دبیرستانی به همراه تمامی تست‌های کنکورهای قبلی به‌طور کامل بررسی شود و در عین فشردگی بودن مطالب به حدی جامع باشد که برای استفاده دانش‌آموزان از ابتدای سال تحصیلی هم مناسب باشد. از طرف دیگر تجربه سال‌ها تدریس اینجانب در رشته‌های ریاضی و آماده‌سازی دانش‌آموزان برای کنکور سراسری باعث شده تا این کتاب در عین جامع بودن، از نکات اضافی که خارج از چارچوب‌های کتاب درسی و طرح سوال برای کنکور سراسری هستند پرهیز شود.

ساختار و ویژگی‌های کتاب

این کتاب در ۱۰ فصل و به صورت موضوعی در کم‌ترین حجم، تمامی مباحث کنکور را پوشش می‌دهد که شامل قسمت‌های زیر است:

◀ **درسنامه:** تمامی مطالبی که در کنکور به آن نیاز دارید را به صورت عمیق توضیح داده‌ایم و در این قسمت تست‌هایی قرار داده‌ایم و کنار هر تست آیکون‌هایی وجود دارد که میزان اهمیت و نزدیکی به سؤالات کنکور را از طریق کم یا زیاد شدن آنتن نشان می‌دهد. (آنتن پر به معنی مهم بودن تست است.)

- ◀ پرسش‌های چهار گزینه‌ای: شامل تست‌های تألیفی و تست‌های کنکور دهه ۹۰ است.
- ◀ پاسخنامه تشریحی: به تمامی سؤالات به صورت کاملاً دقیق و مفهومی پاسخ داده‌ایم.
- ◀ فرمول نامه: تمامی فرمول‌های مورد نیاز را گردآوری کردیم.

سپاس و قدردانی

- در این جا لازم است از تمامی عزیزانی که در آماده‌سازی این کتاب تلاش کرده‌اند، قدردانی کنم:
- جناب آقای احمد اختیاری مدیر فرهیخته انتشارات
- جناب آقای محمدحسین انوشه مدیر شورای تألیف
- جناب آقای عباس اشرفی مدیر محترم گروه ریاضی
- جناب آقای احسان لعل مسئول ویراستاری، خانم‌ها مهرنوش رضوی، آزاده غنی‌فرد و هستی مخدوم ویراستاران علمی کتاب
- سرکار خانم مریم تاجداری مدیر تولید، جناب آقای میلاد صفایی مدیر فنی تولید و سرکار خانم رویا طبسی و جناب آقای مجتبی حسنی صفحه‌آرایان کتاب

علی سعیدی زاد


بهار ۱۳۹۹

هندسه ۱ (پایه دهم)

کتاب هندسه (۱) پایه دهم، ۴ فصل اول این کتاب را به خود اختصاص می‌دهد. فصل اول «ترسیم‌های هندسی» شامل بخش‌هایی از هندسه مانند تعاریف، قضایا و مکان‌های هندسی است.

در فصل دوم علاوه بر بیان قضیه تالس و تشابه مثلث‌ها، به بررسی قضیه فیثاغورس و خواص مثلث قائم‌الزاویه نیز می‌پردازیم. در فصل سوم به منظور گسترش مفهوم چندضلعی، انواع چندضلعی‌ها و خواص آن‌ها را مطالعه می‌کنیم.

و نهایتاً در فصل چهارم به دلیل اهمیت هندسه فضایی در پرورش قوای تفکر، به بررسی تجسم چندوجهی‌های فضایی و اشکال حاصل از برش آن‌ها، همچنین توسعه تفکر تجسمی از طریق مشاهده یک جسم فضایی از زوایای مختلف می‌پردازیم.



فهرست

۷

۸

۲۱

۴۴

۶۹

۹۱

۹۲

۱۱۷

۱۳۰

۱۴۷

۱۴۸

۱۹۶

۲۴۱

۲۷۳

۲۷۴

هندسه ۱ (پایهٔ دهم)



فصل ۱: ترسیم های هندسی و استدلال

فصل ۲: قضیهٔ تالس، تشابه و کاربردهای آن

فصل ۳: چند ضلعی‌ها

فصل ۴: تجسم فضایی

هندسه ۲ (پایهٔ یازدهم)



فصل ۵: دایره

فصل ۶: تبدیل‌های هندسی و کاربردها

فصل ۷: روابط طولی در مثلث

هندسه ۳ (پایهٔ دوازدهم)



فصل ۸: ماتریس و کاربردها

فصل ۹: آشنایی با مقاطع مخروطی

فصل ۱۰: بردارها

پیوست



فرمول نامه



قضیه تالس، تشابه و کاربردهای آن‌ها

نسبت و تناسب

نسبت عدد a به عدد b عبارت است از کسر $\frac{a}{b}$ ($b \neq 0$).

نسبت دو مقدار، واحد ندارد، یعنی دو عدد a و b باید از یک واحد باشند. تساوی دو نسبت را یک تناسب می‌گویند.

$$\frac{a}{b} = \frac{c}{d}, bd \neq 0$$

خواص تناسب

$$1 \quad \frac{a}{b} = \frac{c}{d} \Leftrightarrow ad = bc$$

طرفین وسطین:

$$2 \quad \frac{a}{b} = \frac{c}{d} \Leftrightarrow \frac{b}{a} = \frac{d}{c}$$

معکوس کردن:

$$3 \quad \frac{a}{b} = \frac{c}{d} \Leftrightarrow \frac{a}{c} = \frac{b}{d}$$

تعویض وسطین:

$$4 \quad \frac{a}{b} = \frac{c}{d} \Leftrightarrow \frac{d}{b} = \frac{c}{a}$$

تعویض طرفین:

$$5 \quad \frac{a}{b} = \frac{c}{d} \Leftrightarrow \frac{a+b}{b} = \frac{c+d}{d}$$

ترکیب در صورت:

$$6 \quad \frac{a}{b} = \frac{c}{d} \Leftrightarrow \frac{a-b}{b} = \frac{c-d}{d}$$

تفضیل در صورت:

$$7 \quad \frac{a}{b} = \frac{c}{d} \Leftrightarrow \frac{a}{a+b} = \frac{c}{c+d}$$

ترکیب در مخرج:

$$8 \quad \frac{a}{b} = \frac{c}{d} \Leftrightarrow \frac{a}{a-b} = \frac{c}{c-d}$$

تفضیل در مخرج:

$$9 \quad \frac{a}{b} = \frac{c}{d} \Leftrightarrow \frac{a+b}{a-b} = \frac{c+d}{c-d}$$

ترکیب در صورت و تفضیل در مخرج:

$$10 \quad \frac{a}{b} = \frac{c}{d} \Leftrightarrow \frac{a}{b} = \frac{a-c}{b-d}, \frac{a}{b} = \frac{c}{d} \Leftrightarrow \frac{a}{b} = \frac{a+c}{b+d}$$

ترکیب یا تفضیل یک طرف:

واسطه هندسی (میانگین هندسی)

اگر $a^2 = bc$ باشد، آن‌گاه عدد مثبت a را واسطه هندسی دو عدد مثبت b و c می‌گویند. به بیان دیگر اگر در یک تناسب طرفین دو عدد یکسان و مثبت باشند، آن‌گاه آن عدد واسطه هندسی اعداد مثبتی است که در وسطین تناسب قرار گرفته‌اند.

$$\frac{a}{b} = \frac{c}{a} \Rightarrow a^2 = bc$$

a واسطه هندسی b و c است.



تست واسطه هندسی دو عدد مثبت a و b سه برابر b است. حاصل $\frac{a^2}{b^2}$ کدام است؟

- ۹ (۱) ۸۱ (۲) $\frac{1}{9}$ (۳) $\frac{1}{81}$ (۴)

پاسخ گزینه «۲» اگر واسطه هندسی a و b را c بنامیم، آن‌گاه:

$$c^2 = ab \Rightarrow (3b)^2 = ab \Rightarrow 9b^2 = ab \Rightarrow a = 9b \Rightarrow \frac{a}{b} = 9 \Rightarrow \frac{a^2}{b^2} = 81$$

تست اگر $3a = 7b$ و a و b دو عدد مثبت باشند، کدام رابطه درست است؟

- $\frac{3a-b}{b} = 6$ (۴) $\frac{a}{b-a} = \frac{4}{7}$ (۳) $\frac{a+b}{b} = \frac{3}{10}$ (۲) $\frac{a+b}{a-b} = \frac{3}{7}$ (۱)

پاسخ گزینه «۴» طبق فرض $\frac{a}{b} = \frac{7}{3}$ بنابراین طبق ویژگی‌های تناسب به بررسی گزینه‌ها می‌پردازیم:

گزینه «۱»: $\frac{a+b}{a-b} = \frac{7+3}{7-3} = \frac{10}{4} = \frac{5}{2}$ (ترکیب در صورت و تفضیل در مخرج)

گزینه «۲»: $\frac{a+b}{b} = \frac{7+3}{3} = \frac{10}{3}$ (ترکیب در صورت)

گزینه «۳»: $\frac{a}{b-a} = \frac{7}{3-7} = -\frac{7}{4}$ (تفضیل در مخرج)

گزینه «۴»: $\frac{a}{b} = \frac{7}{3} \Rightarrow \frac{3a}{b} = \frac{7}{1} \Rightarrow \frac{3a-b}{b} = \frac{7-1}{1} = 6$

تست اگر $\frac{a}{b} = \frac{c}{d} = k$ و $k > 0$ ، آن‌گاه حاصل $\sqrt{\frac{2a^2 + 3c^2}{2b^2 + 3d^2}}$ کدام است؟

- k (۱) $-k$ (۲) $\frac{1}{k}$ (۳) $-\frac{1}{k}$ (۴)

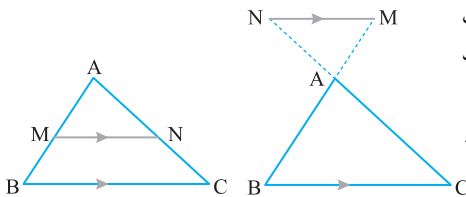
پاسخ گزینه «۱» طبق ویژگی‌های تناسب داریم:

$$\frac{a}{b} = \frac{c}{d} = k \Leftrightarrow \frac{a^2}{b^2} = \frac{c^2}{d^2} = k^2 \Rightarrow \frac{2a^2}{2b^2} = \frac{3c^2}{3d^2} = k^2$$

$$\Rightarrow \frac{2a^2 + 3c^2}{2b^2 + 3d^2} = k^2 \Rightarrow \sqrt{\frac{2a^2 + 3c^2}{2b^2 + 3d^2}} = k$$

قضیه تالس

اگر خطی موازی با یک ضلع مثلث، دو ضلع دیگر و یا امتداد آنها را قطع کند، آن‌گاه نسبت پاره‌خط‌هایی که بر روی آن اضلاع ایجاد می‌شود یکسان است.



$$\frac{AM}{MB} = \frac{AN}{NC}$$

■ عکس قضیه تالس نیز برقرار است.



اکنون در مثلث GDC، داریم:

$$\frac{S_{\triangle GAB}}{S_{\triangle GDC}} = \left(\frac{GA}{GD}\right)^2 = \left(\frac{2}{3}\right)^2 = \frac{4}{9} \xrightarrow{\text{تفصیل در مخرج}} \frac{S_{\triangle GAB}}{S_{\triangle GDC} - S_{\triangle GAB}} = \frac{4}{9-4} \Rightarrow \frac{S_{\triangle GAB}}{S_{ABCD}} = \frac{4}{5}$$

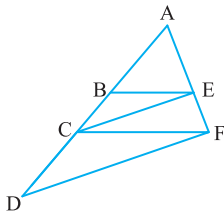
$$\Rightarrow S_{\triangle GAB} = \frac{4}{5} S_{ABCD}$$

$$\Rightarrow S_{\triangle GAF} = \frac{2}{5} \left(\frac{4}{5} S_{ABCD}\right) = \frac{8}{25} S_{ABCD}$$

با توجه به (*) داریم:

که ۳۲ درصد مساحت دوزنقه است.

پرسش‌های چهارگزینه‌ای



۱. در شکل روبه‌رو اگر $BC = 3$ و $AB = 5$ ، $CE \parallel DF$ ، $BE \parallel CF$ باشد، آن‌گاه اندازه CD کدام است؟

- (۱) $4/5$ (۲) $4/8$ (۳) $5/4$ (۴) $5/6$

۲. مثلثی به اضلاع a ، b و c با مثلثی به اضلاع 5 ، 4 و 3 متشابه است و دو مثلث قابل انطباق نیستند.

(ریاضی ۹۰)

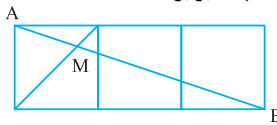
بیشترین محیط از مثلث اول کدام است؟

- (۱) $13/5$ (۲) 9 (۳) 10 (۴) $7/2$

۳. در مثلث ABC اندازه زاویه A دو برابر اندازه زاویه B است. رابطه بین اضلاع این مثلث کدام است؟ (تجربی ۸۸)

- (۱) $a^2 = bc$ (۲) $b^2 = ac$ (۳) $a^2 - b^2 = bc$ (۴) $a^2 - c^2 = bc$

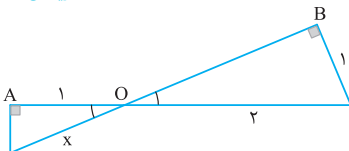
۴. در شکل زیر سه مربع به اضلاع واحد کنار هم قرار دارند. فاصله MA چند برابر $\sqrt{10}$ است؟



- (۱) $1/3$ (۲) $1/4$ (۳) $2/9$ (۴) $1/5$

(ریاضی ۹۱)

۵. در شکل زیر دو زاویه A و B قائمه‌اند. مقدار x چقدر است؟



- (۱) $1/\sqrt{3}$ (۲) $2/\sqrt{3}$ (۳) $4/3$ (۴) $3/2$

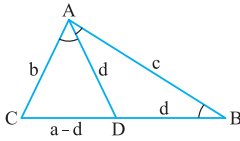
۶. اندازه قاعده‌های یک دوزنقه ۹ و ۶ واحد و طول پاره خطی که دو نقطه وسط قاعده‌ها را به هم وصل می‌کند برابر ۱۲ واحد است. فاصله نقطه تلاقی دو قطر این دوزنقه از وسط قاعده کوچک‌تر چقدر است؟

- (۱) $3/6$ (۲) $4/2$ (۳) $4/8$ (۴) $5/4$ (۵) (ریاضی ۸۵)



۳. گزینه «۳»

نیمساز داخلی زاویه A را رسم می‌کنیم.
مثلث‌های ABC و DAC متشابه هستند.

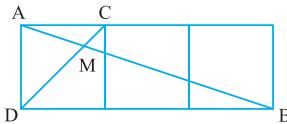


$$\begin{cases} \hat{C} = \hat{C} \\ \hat{CAD} = \hat{B} \end{cases} \Rightarrow \triangle CAD \sim \triangle CBA \Rightarrow \frac{CA}{CB} = \frac{AD}{AB} = \frac{CD}{AC}$$

$$\frac{b}{a} = \frac{d}{c} = \frac{a-d}{b} \Rightarrow \begin{cases} \frac{b}{a} = \frac{a-d}{b} \Rightarrow b^2 = a^2 - ad \\ \frac{b}{a} = \frac{d}{c} \Rightarrow ad = bc \Rightarrow a^2 - b^2 = bc \end{cases}$$

۴. گزینه «۲»

دو مثلث MAC و MBD متشابه هستند.

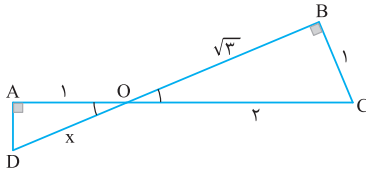


$$\triangle MAC \sim \triangle MBD \Rightarrow \frac{MA}{MB} = \frac{MC}{MD} = \frac{AC}{BD}$$

$$\frac{MA}{MB} = \frac{AC}{BD} = \frac{1}{2} \Rightarrow \frac{MA}{MA+MB} = \frac{1}{4} \Rightarrow MA = \frac{1}{4} AB = \frac{1}{4} \sqrt{1^2 + 3^2} = \frac{\sqrt{10}}{4}$$

۵. گزینه «۲»

دو مثلث قائم‌الزاویه که یک زاویه حاده هم‌اندازه باشند، متشابه‌اند.

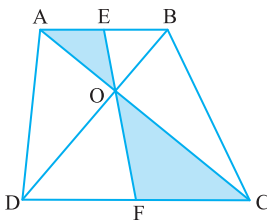


$$\triangle ADO \sim \triangle BCO \Rightarrow \frac{AD}{BC} = \frac{AO}{BO} = \frac{DO}{CO}$$

$$\frac{1}{\sqrt{3}} = \frac{x}{2} \Rightarrow x = \frac{2}{\sqrt{3}} = \frac{2\sqrt{3}}{3}$$

۶. گزینه «۳»

مثلث‌های AOE و COF متشابه هستند.



$$\triangle AOE \sim \triangle COF \Rightarrow \frac{AO}{CO} = \frac{OE}{OF} = \frac{AE}{CF}$$

$$\frac{OE}{OF} = \frac{6}{9} \Rightarrow \frac{OE}{OE+OF} = \frac{6}{6+9}$$

$$\Rightarrow \frac{OE}{12} = \frac{6}{15} \Rightarrow OE = \frac{6 \times 4}{5} = 4/5$$

۷. گزینه «۳»

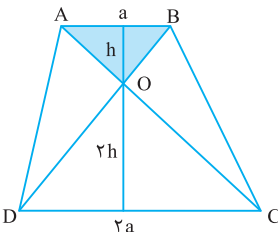
مثلث‌های ABO و CDO متشابه هستند. بنابراین ارتفاع وارد

بر ضلع DC در مثلث ODC دو برابر ارتفاع وارد بر ضلع AB

در مثلث OAB است.

$$S_{ABCD} = \frac{2h(a+2a)}{2} = \frac{3ah}{2}$$

$$S_{OAB} = \frac{h(a)}{2} \Rightarrow \frac{S_{ABCD}}{S_{OAB}} = 3$$



هندسه ۲ (پایه یازدهم)

مطالب کتاب هندسه (۲) پایه یازدهم، فصل ۶، ۵ و ۷ این کتاب را به خود اختصاص می‌دهند. در فصل پنجم به بررسی خواص دایره می‌پردازیم که همواره یکی از پرتکرارترین مباحث هندسه در کنکورهای سراسری است. در فصل ششم با استفاده از تبدیلات هندسی، روش‌های ساده‌تری برای حل مسائل پیچیده هندسی ارائه می‌دهیم. در فصل هفتم به بررسی روابط طولی در مثلث می‌پردازیم که کاربرد زیادی در رشته‌های مهندسی و همین‌طور رشته معماری دارد.





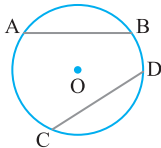
فصل پنجم

دایره

۱ مفاهیم اولیه و زاویه‌ها در دایره

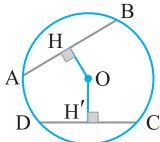
دایره: مکان هندسی نقاطی از صفحه است که فاصله آن‌ها از یک نقطه ثابت به یک مقدار ثابت باشد.
وتر دایره: هر پاره‌خطی که دو سر آن روی دایره است وتر نامیده می‌شود. وتری که از مرکز بگذرد قطر دایره نامیده می‌شود. قطر یک دایره بزرگ‌ترین وتر است که در آن دایره رسم می‌شود و اندازه آن دوبرابر شعاع دایره است.

ویژگی‌های وترهای دایره



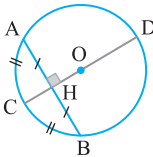
۱ در هر دایره اگر دو وتر هم‌اندازه باشند، کمان‌های متناظر آن‌ها نیز هم‌اندازه‌اند و برعکس.

$$AB = CD \Leftrightarrow \widehat{AB} = \widehat{CD}$$



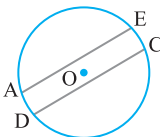
۲ در هر دایره وتری بزرگ‌تر است که فاصله‌اش از مرکز دایره کمتر و برعکس.

$$AB > CD \Leftrightarrow OH < OH'$$



۳ در هر دایره قطر عمود بر یک وتر، آن وتر و کمان متناظرش را نصف می‌کند.

تذکر از هر نقطه درون دایره بی‌شمار وتر می‌گذرد که بزرگ‌ترین آن‌ها قطر است و کوچک‌ترین آن‌ها وتری است که بر قطر گذرنده از آن نقطه عمود باشد.

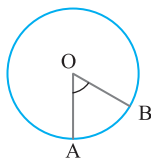


۴ در هر دایره اندازه کمان‌های محصور بین دو وتر موازی با هم برابر است.

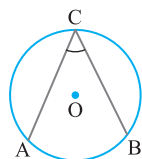
$$AE \parallel CD \Rightarrow \widehat{AD} = \widehat{EC}$$



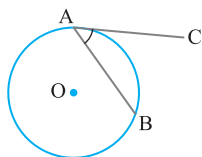
انواع زاویه در دایره



« **زاویه مرکزی:** زاویه‌ای است که رأس آن روی مرکز دایره و اضلاع آن شعاع‌هایی از دایره است. اندازه زاویه مرکزی برابر با اندازه کمان مقابلش است.

$$\hat{A}OB = \widehat{AB}$$


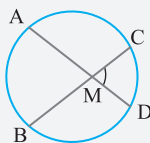
« **زاویه محاطی:** زاویه‌ای است که رأس آن روی محیط دایره و اضلاع آن وترهایی از دایره است. اندازه زاویه محاطی نصف کمان مقابلش است.

$$\hat{A}CB = \frac{\widehat{AB}}{2}$$


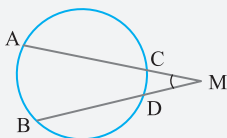
« **زاویه ظنی:** زاویه‌ای است که رأس آن بر روی محیط دایره، یک ضلع آن وتر دایره و ضلع دیگرش مماس بر دایره است. اندازه زاویه ظنی نصف کمان مقابلش است.

$$\hat{B}AC = \frac{\widehat{AB}}{2}$$

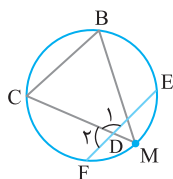

نکته:



(الف) زاویه بین دو وتر متقاطع در درون دایره برابر است با نصف مجموع دو کمان مقابلش.

$$\hat{M} = \frac{\widehat{AB} + \widehat{CD}}{2}$$


(ب) زاویه بین دو وتر متقاطع در خارج دایره برابر است با نصف تفاضل دو کمان مقابلش.

$$\hat{M} = \frac{\widehat{AB} - \widehat{CD}}{2}$$


تست در شکل مقابل نقطه M وسط کمان EF است. اندازه $\hat{B} + \hat{D}_1$ چند درجه است؟

۱۷۵ (۲)

۱۶۰ (۱)

۲۳۰ (۴)

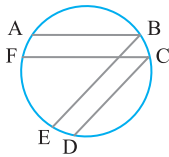
۱۸۰ (۳)

$$\widehat{MF} = \widehat{ME}$$

پاسخ گزینه «۳» چون M وسط EF است، پس:

$$\hat{B} = \frac{\widehat{CM}}{2} = \frac{\widehat{CF} + \widehat{MF}}{2} = \frac{\widehat{CF} + \widehat{ME}}{2} = \hat{D}_2$$

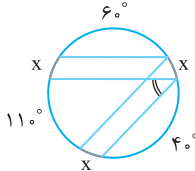
$$\hat{D}_2 + \hat{D}_1 = 180^\circ \Rightarrow \hat{B} + \hat{D}_1 = 180^\circ$$



در شکل روبه‌رو اگر $\widehat{CD} = 4^\circ$ ، $\widehat{AB} = 6^\circ$ ، $CD \parallel BE$ ، $AB \parallel FC$ باشد، آن‌گاه اندازه زاویه \widehat{FCD} چقدر است؟

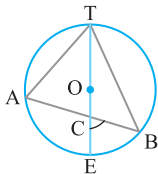
- و $\widehat{EF} = 11^\circ$ باشد، آن‌گاه اندازه زاویه \widehat{FCD} چقدر است؟
- (۱) 9°
(۲) 55°
(۳) 7°
(۴) 8°

پاسخ گزینه «۴» کمان‌های محصور بین دو وتر موازی هم‌اندازه هستند.



$$3x + 6^\circ + 4^\circ + 11^\circ = 36^\circ \Rightarrow x = 5^\circ$$

$$\widehat{FCD} = \frac{11^\circ + 5^\circ}{2} = 8^\circ$$



در شکل مقابل، O مرکز دایره و $\hat{B} = 35^\circ$ و $\hat{A} = 65^\circ$ می‌باشد.

زاویه \hat{C} چند درجه است؟

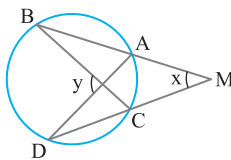
- (۱) 6°
(۲) 61°
(۳) 62°
(۴) 63°

$$\hat{A} = 65^\circ \Rightarrow \widehat{TB} = 13^\circ$$

$$\text{قطر TE} \Rightarrow \widehat{TBE} = 18^\circ \Rightarrow \widehat{BE} = 18^\circ - 13^\circ = 5^\circ$$

$$\hat{B} = 35^\circ \Rightarrow \widehat{AT} = 7^\circ \Rightarrow \hat{C} = \frac{7^\circ + 5^\circ}{2} = 6^\circ$$

پاسخ گزینه «۱»



در شکل روبه‌رو $\widehat{BD} = 16^\circ$ و $\widehat{AC} = 4^\circ$ می‌باشد. حاصل $y - x$

چند درجه است؟

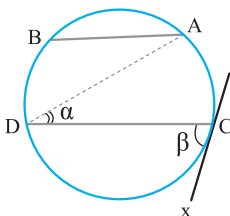
- (۱) 3°
(۲) 4°
(۳) 45°
(۴) 5°

پاسخ گزینه «۲»

$$\hat{y} = \frac{16^\circ + 4^\circ}{2} = 10^\circ$$

$$\hat{x} = \frac{16^\circ - 4^\circ}{2} = 6^\circ$$

$$\Rightarrow y - x = 4^\circ$$



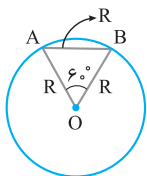
در شکل زیر، وتر AB برابر شعاع دایره و $AB \parallel CD$ ،

زاویه $\beta = 2\alpha$ و CX مماس بر دایره است. کمان \widehat{BD} چند درجه

(ریاضی ۹۸)

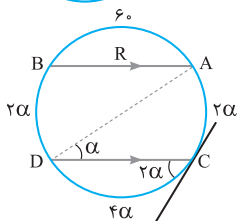
است؟

- (۱) 5°
(۲) 6°
(۳) 7°
(۴) 75°



$$\Rightarrow \widehat{AB} = 60^\circ$$

$$\alpha = \frac{\widehat{AC}}{2} \Rightarrow \widehat{AC} = 2\alpha$$



$$AB \parallel CD \Rightarrow \widehat{AC} = \widehat{BD} = 2\alpha$$

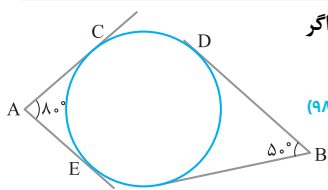
$$\frac{\widehat{CD}}{2} = 2\alpha \Rightarrow \widehat{CD} = 4\alpha$$

$$\Rightarrow 8\alpha + 60^\circ = 360^\circ \Rightarrow 2\alpha = 75^\circ$$

پاسخ گزینه «۴»

در شکل زیر، اضلاع زاویه‌های A و B بر دایره مماس‌اند، اگر

وتر CD برابر شعاع دایره باشد. زاویه EDF چند درجه است؟



(ریاضی خارج ۹۸)	۳۰ (۲)	۲۵ (۱)
	۴۰ (۴)	۳۵ (۳)

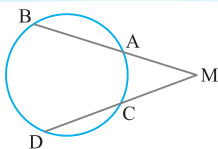
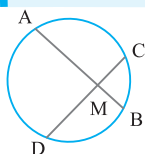
پاسخ گزینه «۳» با توجه به این که اندازه وتر CD برابر با شعاع

دایره است، پس $\widehat{CD} = 60^\circ$ است. (چرا؟) اکنون داریم:

$$\begin{cases} \hat{A} = 80^\circ \Rightarrow \frac{(60^\circ + y + x) - z}{2} = 80^\circ \\ \hat{B} = 50^\circ \Rightarrow \frac{(60^\circ + z + x) - y}{2} = 50^\circ \end{cases}$$

$$60^\circ + x = 130^\circ \Rightarrow x = 70^\circ \Rightarrow \widehat{EDF} = \frac{x}{2} = \frac{70^\circ}{2} = 35^\circ \quad \text{از جمع این دو تساوی داریم:}$$

۲ روابط طولی در دایره



هرگاه خط‌های شامل دو وتر AB و CD از یک دایره همدیگر را در نقطه‌ای به نام M (درون یا بیرون دایره) قطع کنند، آن‌گاه:

$$MA \cdot MB = MC \cdot MD$$

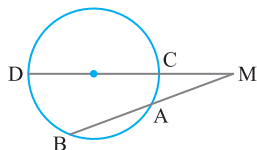
نتیجه: حالتی را در نظر بگیرید که یکی از وترها از مرکز دایره عبور کند. در این حالت اگر فاصله M تا مرکز

دایره را با d و شعاع دایره را با r نمایش دهیم، داریم:

$$MC = d - r, MD = d + r$$

$$MA \cdot MB = MC \cdot MD = (d - r)(d + r)$$

$$\Rightarrow MA \cdot MB = d^2 - r^2$$




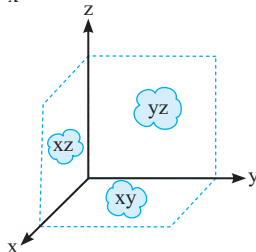
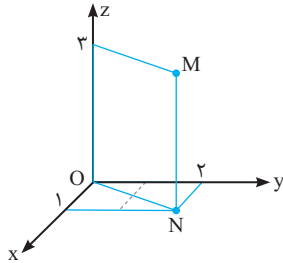
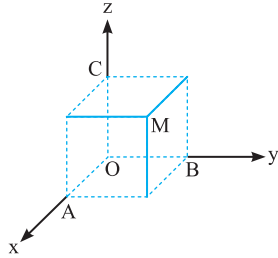
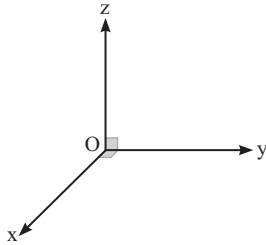
هندسه ۳ (پایه دوازدهم)

سه فصل پایانی این کتاب را به کتاب هندسه (۳)، پایه دوازدهم اختصاص داده‌ایم. در فصل هشتم به معرفی و بررسی خواص ماتریس‌ها می‌پردازیم که یکی از پرکاربردترین ابزارهای ریاضی امروزی هستند.

در فصل نهم به معرفی مقاطع مخروطی و مکان‌های هندسی، همچنین بررسی معادلات دایره و سهمی و نیز توصیف بیضی و بررسی برخی ویژگی‌های آن‌ها می‌پردازیم که همواره از مباحث پرتکرار کنکورهای سراسری بوده‌اند.

و نهایتاً در فصل پایانی به معرفی بردارها در فضای سه‌بعدی می‌پردازیم و انواع ضرب بردارها را بررسی می‌کنیم و کاربرد آن در ریاضیات عمومی رشته‌های مهندسی و پیش‌نیاز ورود مباحث درس حسابان به فضای سه‌بعدی می‌باشد.





دستگاه مختصات سه بعدی از سه محور دو به دو عمود بر هم Ox و Oy و Oz تشکیل شده به طوری که اگر چهار انگشت دست راست را در جهت محور x ها قرار داده و به سمت محور y ها خم کنیم، انگشت شست جهت مثبت محور z ها را نمایش می‌دهد.

دستگاه مختصات سه بعدی کل فضا را به ۸ ناحیه تقسیم می‌کند که فقط در کنج $Oxyz$ هر سه مؤلفه مثبت هستند.

نمایش یک نقطه در فضا

اگر M نقطه‌ای در فضا باشد، برای تعیین مختصات آن سه صفحه گذرنده از M ، بر سه محور مختصات عمود می‌کنیم تا آن‌ها را به ترتیب در نقاط A ، B و C قطع کند.

$$x_m = |OA| \quad y_m = |OB| \quad z_m = |OC|$$

در شکل روبه‌رو نقطه M با مختصات $(1, 2, 3)$ در دستگاه مختصات سه بعدی نمایش داده شده است.

مختصات نقطه N به صورت $(1, 2, 0)$ می‌باشد.

نقطه N در صفحه xy قرار دارد و معادله کلیه نقاط این صفحه به صورت $Z = 0$ می‌باشد.

معادله صفحات مختصات به صورت زیر است:

$$\text{صفحه } XY : Z = 0$$

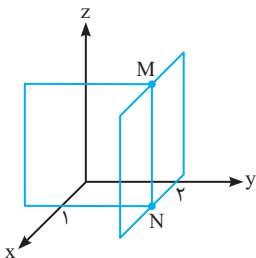
$$\text{صفحه } XZ : y = 0$$

$$\text{صفحه } YZ : x = 0$$



خط MN فصل مشترک دو صفحه $x=1$ و $y=2$ است

و معادله آن به صورت $\begin{cases} x=1 \\ y=2 \end{cases}$ نوشته می‌شود.



قرینه نقطه نسبت به صفحات و محورهای مختصات

برای تعیین قرینه یک نقطه نسبت به صفحات و محورهای مختصات باید مؤلفه غایب را قرینه کنیم.

- ۱ قرینه نقطه (x, y, z) نسبت به صفحه yOz برابر است با: $(-x, y, z)$
- ۲ قرینه نقطه (x, y, z) نسبت به صفحه xOz برابر است با: $(x, -y, z)$
- ۳ قرینه نقطه (x, y, z) نسبت به صفحه xOy برابر است با: $(x, y, -z)$
- ۴ قرینه نقطه (x, y, z) نسبت به محور Ox برابر است با: $(x, -y, -z)$
- ۵ قرینه نقطه (x, y, z) نسبت به محور Oy برابر است با: $(-x, y, -z)$
- ۶ قرینه نقطه (x, y, z) نسبت به محور Oz برابر است با: $(-x, -y, z)$
- ۷ قرینه نقطه (x, y, z) نسبت به مبدأ مختصات برابر است با: $(-x, -y, -z)$

تصویر یک نقطه روی صفحات و محورهای مختصات

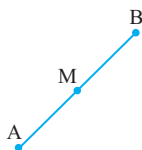
برای تعیین تصویر یک نقطه روی صفحات و محورهای مختصات به جای مؤلفه غایب صفر می‌گذاریم.

- ۱ تصویر نقطه (x, y, z) روی صفحه xOy نقطه $(x, y, 0)$ می‌باشد.
- ۲ تصویر نقطه (x, y, z) روی صفحه xOz نقطه $(x, 0, z)$ می‌باشد.
- ۳ تصویر نقطه (x, y, z) روی صفحه yOz نقطه $(0, y, z)$ می‌باشد.
- ۴ تصویر نقطه (x, y, z) روی محور Ox نقطه $(x, 0, 0)$ می‌باشد.
- ۵ تصویر نقطه (x, y, z) روی محور Oy نقطه $(0, y, 0)$ می‌باشد.
- ۶ تصویر نقطه (x, y, z) روی محور Oz نقطه $(0, 0, z)$ می‌باشد.

فاصله یک نقطه از صفحات و محورهای مختصات

اگر $A(x, y, z)$ نقطه‌ای در فضا باشد:

- ۱ فاصله نقطه A از صفحه xOy برابر است با: $|z|$
- ۲ فاصله نقطه A از صفحه xOz برابر است با: $|y|$
- ۳ فاصله نقطه A از صفحه yOz برابر است با: $|x|$
- ۴ فاصله نقطه A از محور Ox برابر است با: $\sqrt{y^2 + z^2}$
- ۵ فاصله نقطه A از محور Oy برابر است با: $\sqrt{x^2 + z^2}$
- ۶ فاصله نقطه A از محور Oz برابر است با: $\sqrt{y^2 + x^2}$
- ۷ فاصله نقطه A از مبدأ مختصات برابر است با: $\sqrt{x^2 + y^2 + z^2}$



فاصله دو نقطه در فضا، مختصات وسط یک

پاره‌خط و قرینه یک نقطه نسبت به نقطه‌ای دیگر:

اگر $A(x_1, y_1, z_1)$ و $B(x_2, y_2, z_2)$ دو نقطه در فضا باشند،

آن‌گاه:

$$|AB| = \sqrt{(x_1 - x_2)^2 + (y_1 - y_2)^2 + (z_1 - z_2)^2} \quad 1 \text{ طول پاره‌خط } AB \text{ برابر است با:}$$

۲ مختصات نقطه M وسط پاره‌خط AB برابر است با:

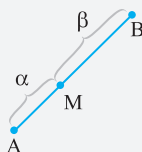
$$M = \frac{A+B}{2} \Rightarrow M = \left(\frac{x_1+x_2}{2}, \frac{y_1+y_2}{2}, \frac{z_1+z_2}{2} \right)$$

۳ قرینه نقطه A نسبت به نقطه B برابر است با:

$$A' = 2B - A$$

نکته: اگر نقطه M روی پاره‌خط AB چنان قرار داشته باشد که $\frac{AM}{MB} = \frac{\alpha}{\beta}$ آن‌گاه مختصات

نقطه M از رابطه زیر به دست می‌آید:



$$\frac{AM}{MB} = \frac{\alpha}{\beta} \Rightarrow M = \frac{\alpha B + \beta A}{\alpha + \beta}$$

تست اگر نقطه $A(a+1, 2, c+5)$ قرینه نقطه $B(4, b-3, 7)$ نسبت به محور y باشد،

$a+b+c$ کدام است؟

$$17 \quad (4) \quad -17 \quad (3) \quad -12 \quad (2) \quad -22 \quad (1)$$

پاسخ گزینه «۳» مؤلفه‌های x و Z نقاط A و B باید قرینه هم باشند و مؤلفه‌های y آن‌ها باید مساوی باشد.

$$\begin{cases} a+1 = -4 \Rightarrow a = -5 \\ c+5 = -7 \Rightarrow c = -12 \Rightarrow a+b+c = -12 \\ b-3 = 2 \Rightarrow b = 5 \end{cases}$$

اگر فاصله نقطه $A(-1, m-3, 2)$ از مبدأ مختصات برابر ۳ واحد باشد، حداکثر m کدام است؟

$$7 \quad (4) \quad 5 \quad (3) \quad 3 \quad (2) \quad 1 \quad (1)$$

$$\sqrt{(-1)^2 + (m-3)^2 + (2)^2} = 3 \Rightarrow (m-3)^2 + 5 = 9$$

$$\Rightarrow (m-3)^2 = 4 \Rightarrow m-3 = \pm 2 \Rightarrow m = 5 \text{ یا } m = 1$$

نقطه $A(2, -1, 3)$ مفروض است. اگر A' قرینه A نسبت به محور Oy و A'' تصویر A بر روی

صفحه xOy باشد. طول پاره‌خط $A'A''$ کدام است؟

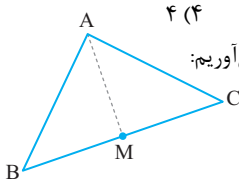
$$5 \quad (4) \quad 4 \quad (3) \quad 3 \quad (2) \quad 2 \quad (1)$$

پاسخ گزینه «۴» مختصات A' به صورت $(-2, -1, -3)$ و مختصات A'' به صورت $(2, -1, 0)$ می‌باشد،

$$|A'A''| = \sqrt{(2+2)^2 + 3^2} = 5 \quad \text{بنابراین طول پاره‌خط } A'A'' \text{ برابر است با:}$$



نقاط $A(2, -1, 2)$ ، $B(1, -1, 2)$ و $C(5, 3, 6)$ رئوس یک مثلث هستند. طول میانه AM کدام است؟



پاسخ گزینه «۳» ابتدا مختصات نقطه M وسط ضلع BC را به دست می‌آوریم:

$$M = \frac{B+C}{2} = \frac{(1, -1, 2) + (5, 3, 6)}{2} = (3, 1, 4)$$

$$|AM| = \sqrt{(3-2)^2 + (1+1)^2 + (4-2)^2} = 3$$

قرینه نقطه $A(-1, 1, 2)$ نسبت به نقطه $B(2, 3, -1)$ کدام است؟

- (۱) $(5, 3, -4)$ (۲) $(5, 5, -4)$ (۳) $(-3, 5, 4)$ (۴) $(3, 5, 4)$

پاسخ گزینه «۲» اگر A' قرینه A نسبت به B باشد، آن‌گاه B وسط پاره‌خط AA' است.

$$B = \frac{A+A'}{2} \Rightarrow A' = 2B - A = 2(2, 3, -1) - (-1, 1, 2) = (5, 5, -4)$$

اگر $A = (-3, 1, 4)$ و $B = (2, 6, 9)$ دو نقطه در فضا باشند و نقطه M روی پاره‌خط AB قرار داشته

باشد، به طوری که $\frac{AM}{MB} = \frac{2}{3}$ ، آن‌گاه مختصات M کدام است؟

- (۱) $(1, 3, 6)$ (۲) $(1, -3, 6)$ (۳) $(1, 3, -6)$ (۴) $(-1, 3, 6)$

پاسخ گزینه «۳»

$$\frac{AM}{MB} = \frac{2}{3} \Rightarrow M = \frac{2B+3A}{5} = \frac{2(2, 6, 9) + 3(-3, 1, 4)}{5} = \frac{(-5, 15, 30)}{5} = (-1, 3, 6)$$

اگر فاصله نقطه A از سه محور Ox و Oy و Oz به ترتیب $2\sqrt{5}$ و $2\sqrt{5}$ و $4\sqrt{2}$ باشد، فاصله

این نقطه از مبدأ مختصات کدام است؟

- (۱) $\frac{10}{\sqrt{14}}$ (۲) ۴ (۳) ۵ (۴) ۶

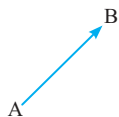
محور Ox فاصله از محور $Ox = \sqrt{y^2 + z^2} = 2\sqrt{5} \Rightarrow y^2 + z^2 = 20$

پاسخ گزینه «۴»

محور Oy فاصله از محور $Oy = \sqrt{x^2 + z^2} = 2\sqrt{5} \Rightarrow x^2 + z^2 = 20$

محور Oz فاصله از محور $Oz = \sqrt{x^2 + y^2} = 4\sqrt{2} \Rightarrow y^2 + x^2 = 32$

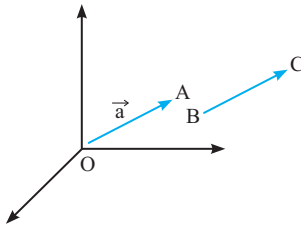
$$\Rightarrow 2x^2 + 2y^2 + 2z^2 = 72 \Rightarrow x^2 + y^2 + z^2 = 36 \Rightarrow \sqrt{x^2 + y^2 + z^2} = 6$$



بردار: هر پاره‌خط جهت‌دار به شکل مقابل را یک بردار می‌نامند. A ابتدای

بردار و B انتهای بردار نامیده می‌شود و فاصله دو نقطه A و B را طول بردار

می‌نامند.



« **تساوی بردارها:** دو بردار را مساوی یا هم‌ارز گوئیم هرگاه طول و جهت آن‌ها یکسان باشد.

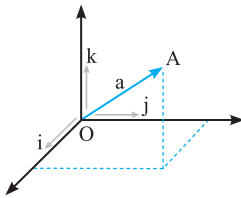
هر بردار دلخواه \vec{BC} بردار هم‌ارزی دارد که از مبدأ مختصات شروع می‌شود و برای نمایش آن کفایت مختصات نقطه انتهایی آن را داشته باشیم. اگر نقطه مورد نظر را A بنامیم آن‌گاه آن را به صورت \vec{OA} یا \vec{a} نمایش می‌دهیم.

« **نمایش یک بردار:** اگر نقاط A و B نقاط ابتدا و انتهای بردار AB باشند، آن‌گاه مؤلفه‌های بردار

$$\vec{AB} = (x_B - x_A, y_B - y_A, z_B - z_A) \quad \text{شوند: محاسبه می‌شوند:}$$

$$|\vec{AB}| = \sqrt{(x_B - x_A)^2 + (y_B - y_A)^2 + (z_B - z_A)^2}$$

اگر $\vec{a}(x, y, z)$ برداری در فضا باشد:



- ۱ مقادیر x, y, z را مؤلفه‌های بردار \vec{a} یا تصاویر بردار \vec{a} می‌نامیم.
- ۲ بردارهای $\vec{i} = (1, 0, 0)$ و $\vec{j} = (0, 1, 0)$ و $\vec{k} = (0, 0, 1)$ را بردارهای بکه محوره‌های مختصات می‌نامیم.
- ۳ بردار \vec{a} را می‌توان به صورت $\vec{a} = x\vec{i} + y\vec{j} + z\vec{k}$ نیز نمایش داد.
- ۴ تصویر بردار \vec{a} روی محوره‌های مختصات $x\vec{i}$ و $y\vec{j}$ و $z\vec{k}$ می‌باشد.
- ۵ تصویر بردار \vec{a} بر روی صفحات مختصات برابر است با:

xOy روی تصویر: $x\vec{i} + y\vec{j}$

xOz روی تصویر: $x\vec{i} + z\vec{k}$

yOz روی تصویر: $y\vec{j} + z\vec{k}$

xz روی تصویر: $\sqrt{x^2 + z^2}$

xy روی تصویر: $\sqrt{x^2 + y^2}$

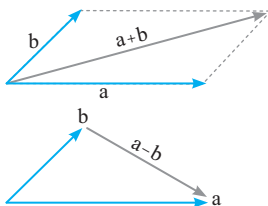
yz روی تصویر: $\sqrt{y^2 + z^2}$

$|\vec{a}| = \sqrt{x^2 + y^2 + z^2}$

۶ طول تصاویر بردار \vec{a} روی سه صفحه مختصات برابر است با:

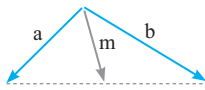
۷ طول بردار \vec{a} برابر است با:

جمع بردارها (برایند بردارها)



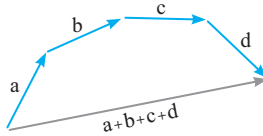
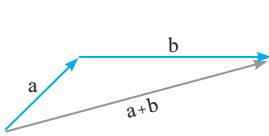
برای محاسبه برایند دو بردار کفایت مؤلفه‌های آن‌ها را نظیر به نظیر با هم جمع کنیم. از نظر هندسی حاصل جمع دو بردار هم‌مبدأ، قطر متوازی‌الاضلاعی است که روی دو بردار ساخته می‌شود.

بردار تفاضل: تفاضل دو بردار هم‌مبدأ برداری است که دو انتهای بردارها را به هم وصل می‌کند و جهت آن به سمت بردار اول است.



نتیجه ۱: با توجه به این که در متوازی‌الاضلاع قطرها همدیگر را نصف می‌کنند، حاصل جمع دو بردار \vec{a} و \vec{b} ، دو برابر بردار میانهٔ مثلثی است که روی آن‌ها ساخته می‌شود.

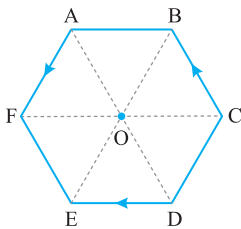
نتیجه ۲: اگر دو یا چند بردار به صورتی باشند که ابتدای هر کدام بر انتهای بردار قبلی باشد، برای رسم بردار برآیند، از ابتدای اولی به انتهای آخری وصل می‌کنیم.



نتیجه ۳: اگر O مبدأ مختصات باشد آن‌گاه بردار \vec{AB} را می‌توان به صورت زیر تجزیه کرد:

$$\vec{AB} = \vec{OB} - \vec{OA}$$

تست در شش ضلعی منتظم شکل زیر حاصل $\vec{AF} + \vec{DE} + \vec{CB}$ کدام است؟



۲ \vec{DO} (۲)

۲ \vec{OD} (۱)

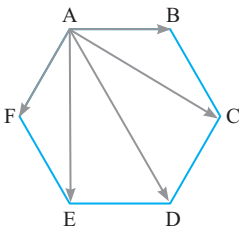
۲ \vec{CO} (۴)

۲ \vec{OC} (۳)

پاسخ گزینهٔ «۴» با توجه به شکل، بردارهای \vec{DE} و \vec{BA} هم‌ارز هستند، بنابراین:

$$\vec{AF} + \vec{DE} + \vec{CB} = \vec{CB} + \vec{BA} + \vec{AF} = \vec{CF} = 2\vec{CO}$$

در شش ضلعی منتظم شکل زیر $\vec{AB} + \vec{AC} + \vec{AD} + \vec{AE} + \vec{AF}$ چند برابر \vec{AD} است؟



۳ (۲)

۴ (۱)

۵ (۴)

$\frac{5}{2}$ (۳)

پاسخ گزینهٔ «۲» با توجه به شکل نتیجه می‌گیریم:

$$\vec{AF} + \vec{AC} = \vec{AD} \quad \text{و} \quad \vec{AB} + \vec{AE} = \vec{AD}$$

$$\vec{AB} + \vec{AC} + \vec{AD} + \vec{AE} + \vec{AF} = 3\vec{AD}$$

بنابراین:

اگر بردارهای $\vec{a}(2, 2, 4)$ و $\vec{b}(1, 0, 2)$ دو ضلع یک مثلث باشند، طول ضلع سوم مثلث کدام است؟

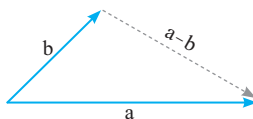
۴ (۴)

۷ (۳)

۵ (۲)

۳ (۱)

پاسخ گزینهٔ «۱» طبق تعریف ابتدای بردارها بر روی مبدأ مختصات است، بنابراین ضلع سوم مثلث هم‌ارز بردار تفاضل آن‌ها می‌باشد.



$$\vec{a} - \vec{b} = (1, 2, 2) \Rightarrow |\vec{a} - \vec{b}| = \sqrt{1^2 + 2^2 + 2^2} = 3$$